





# 長さのたんい 8

◎ 直線の長さをはかる (mm)

13


日にち：            月            日

名まえ \_\_\_\_\_

1 <sup>せん</sup>線の <sup>なが</sup>長さをものさしではかりましょう。



こた 答え ( 4 cm 8 mm )

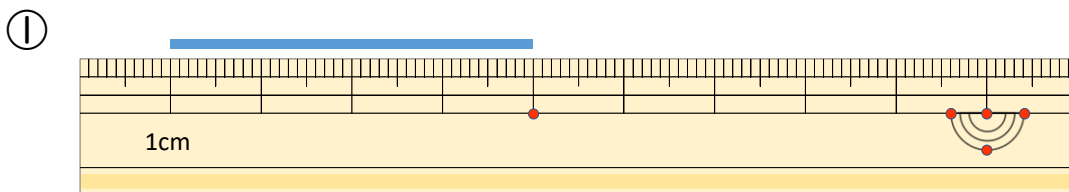


こた 答え ( 3 cm )

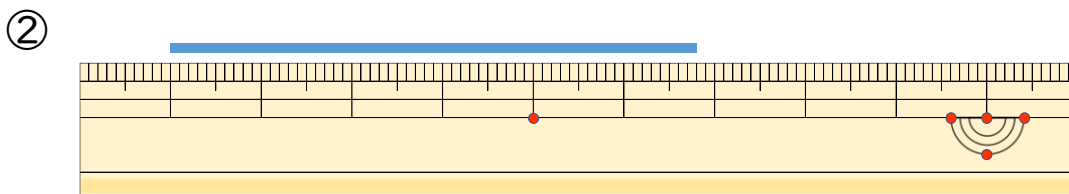


こた 答え ( 6 cm 5 mm )

2 <sup>せん</sup>線の <sup>なが</sup>長さはどれだけですか。



こた 答え ( 4 cm )



こた 答え ( 5 cm 8 mm )

