



# 長方形と正方形 3

◎ 直角三角形をみつけよう

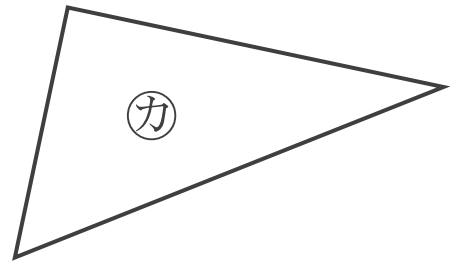
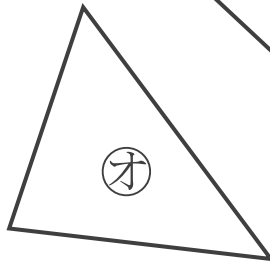
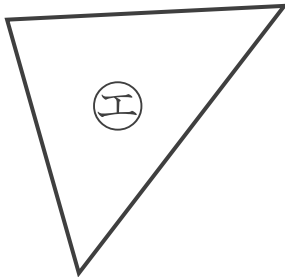
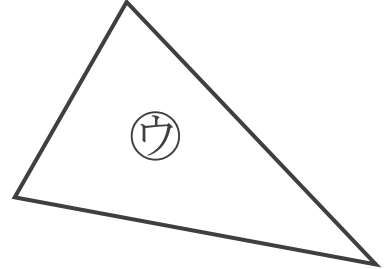
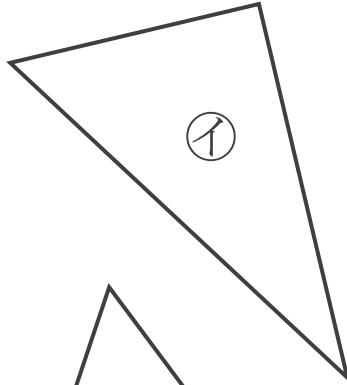
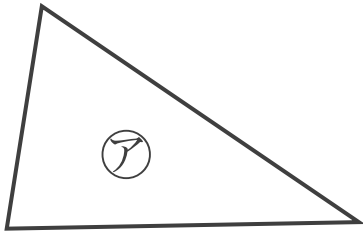
13

日にち：            月            日

名まえ \_\_\_\_\_

1 直角三角形はどれですか。

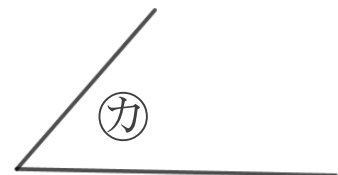
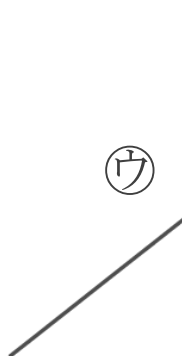
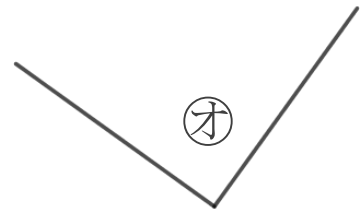
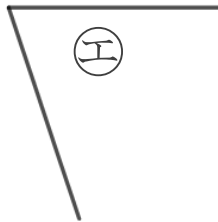
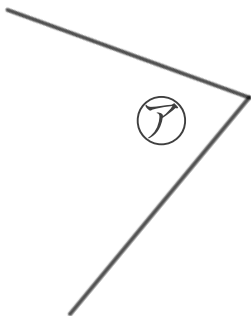
三角じょうぎをつかって、ぜんぶ見つけましょう。



答え： \_\_\_\_\_

2 直角はどれですか。

三角じょうぎをつかって、ぜんぶ見つけましょう。



答え： \_\_\_\_\_



# 長方形と正方形 3

◎ 直角三角形をみつけよう

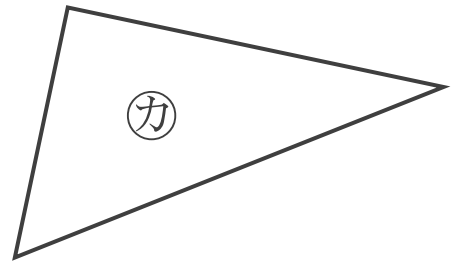
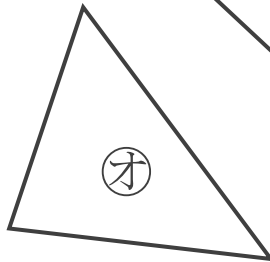
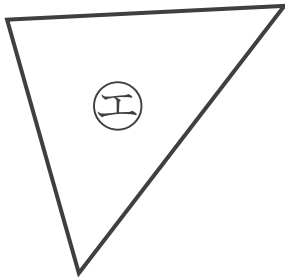
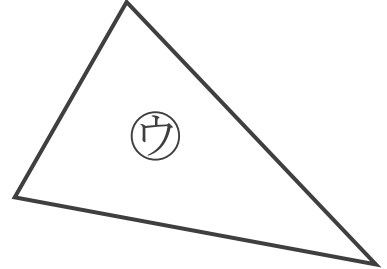
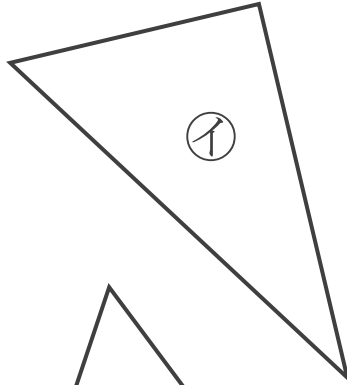
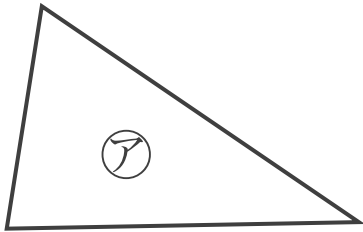
13

日にち：            月            日

名まえ \_\_\_\_\_

1 直角三角形はどれですか。

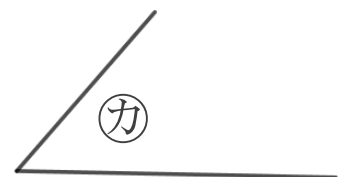
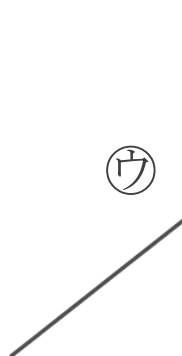
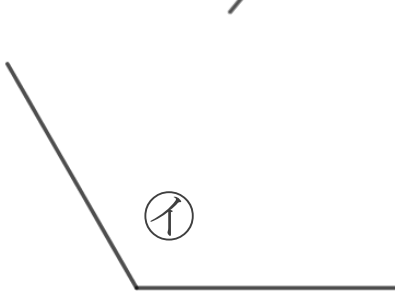
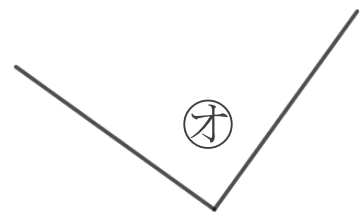
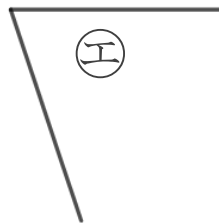
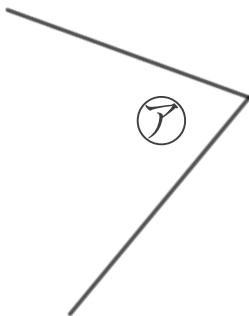
三角じょうぎをつかって、ぜんぶ見つけましょう。



答え：            **イ, カ**

2 直角はどれですか。

三角じょうぎをつかって、ぜんぶ見つけましょう。



答え：            **オ**

