



## かけ算 2

◎ 絵を見てかけ算の  
しきを作ろう



13

日にち：          月          日

名まえ \_\_\_\_\_

・ 絵を見て、かけ算のしきをつかって、ぜんぶでいくつか答えましょう。


①



しき：

答え： \_\_\_\_\_

②



しき：

答え： \_\_\_\_\_





## かけ算 2

◎ 絵を見てかけ算の  
しきを作ろう


13

日にち：          月          日

名まえ \_\_\_\_\_

・ 絵を見て、かけ算のしきをつかって、ぜんぶでいくつか答えましょう。


①



$$\text{しき： } 6 \times 2 = 12$$

答え： 12本

②



$$\text{しき： } 4 \times 3 = 12$$

答え： 12こ

