

# 分数 2

色をぬった部分は何分の一？

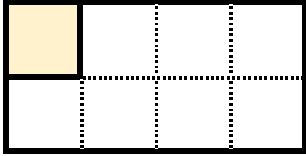


日にち：            月            日

名まえ \_\_\_\_\_


・色をぬったぶんはもとの大きさの何分の一ですか。

①



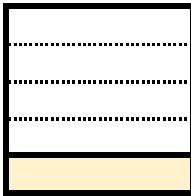
答え： \_\_\_\_\_

④



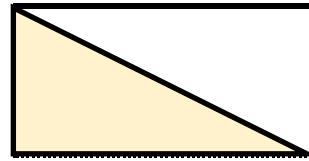
答え： \_\_\_\_\_

②




答え： \_\_\_\_\_

⑤



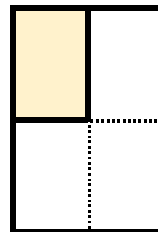
答え： \_\_\_\_\_

③




答え： \_\_\_\_\_

⑥



答え： \_\_\_\_\_



# 分数 2

色をぬった部分は何分の一？

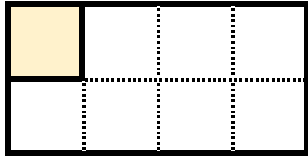


日にち：            月            日

名まえ \_\_\_\_\_


・色をぬったぶんはもとの大きさの何分の一ですか。

①




答え：  $\frac{1}{8}$

④



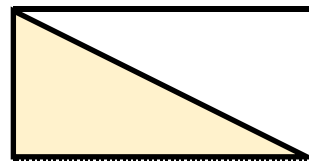
答え：  $\frac{1}{9}$

②



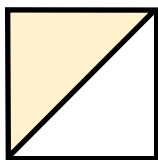
答え：  $\frac{1}{5}$

⑤



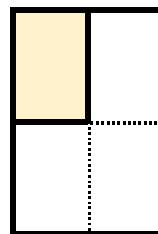
答え：  $\frac{1}{2}$

③



答え：  $\frac{1}{2}$

⑥



答え：  $\frac{1}{4}$

