



4けたの数 4

色紙のまい数を
数字であらわそう


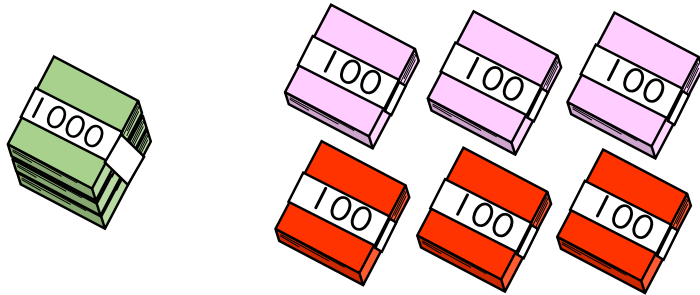


日にち： 月 日

名まえ _____


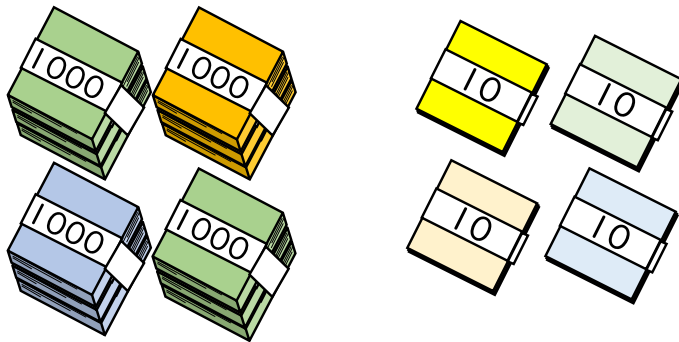
1 色紙の数を数字で書きましょう。

①



() まい

②



() まい

2 数字で書きましょう。

① 五千二百四

② 四千三十七

()

()

3 漢字で書きましょう。

8740

()





4けたの数4

●色紙のまい数を
数字であらわそう


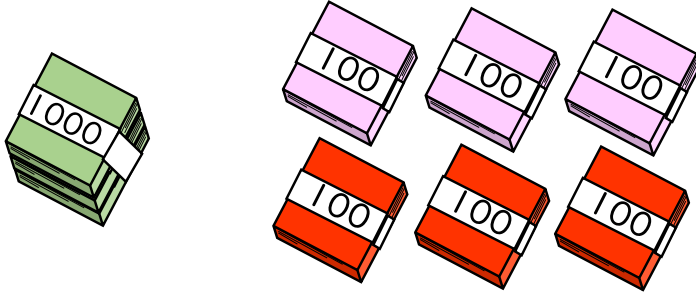


日にち： 月 日

名まえ _____


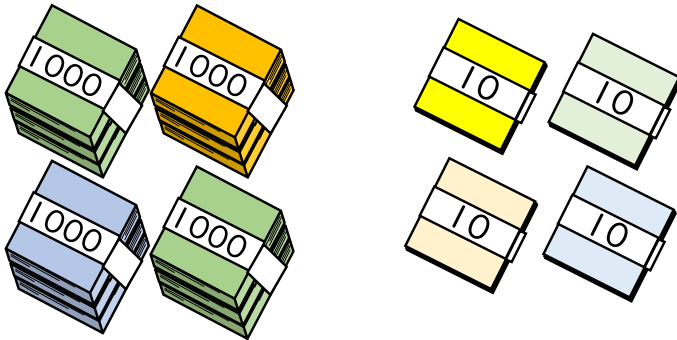
1 色紙の数を数字で書きましょう。

①



{ 1608 まい }

②



{ 4043 まい }

2 数字で書きましょう。

① 五千二百四

② 四千三十七

{ 5204 }

{ 4037 }

3 漢字で書きましょう。

8740

{ 八千七百四十 }

