



図を使って
考えよう！

● 買った数は何こ？

13

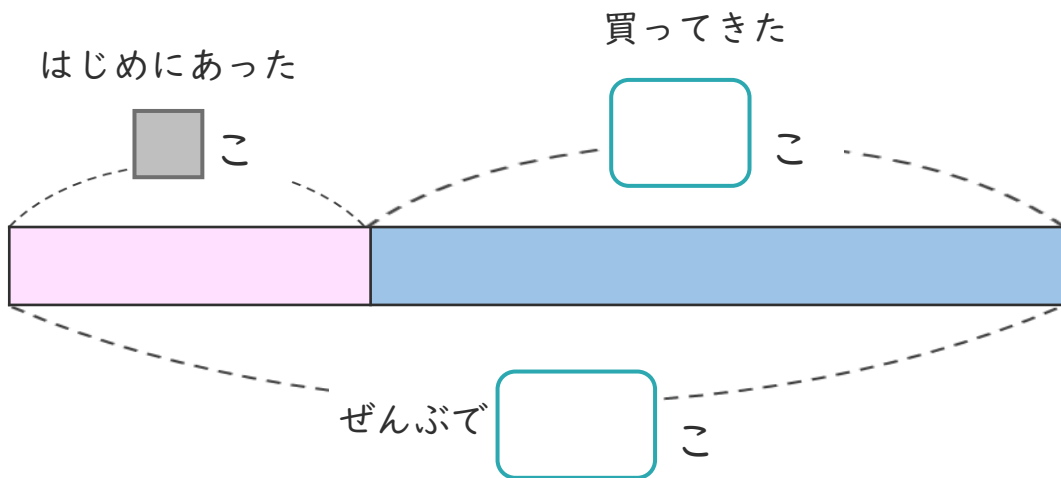
日にち： 月 日

名まえ _____

・ ゼリーが何こかあります。

14こ 買って きたので、ぜんぶで 23こ になりました。

① 下の 図の □ に あう 数 を 書 け ます。




② はじめにあった ゼリーは 何こ ですか。

しきと 答え を 書 け ます。

しき ()

答え ()

<筆算スペース>





図を使って
考えよう！

● 買った数は何こ？

13

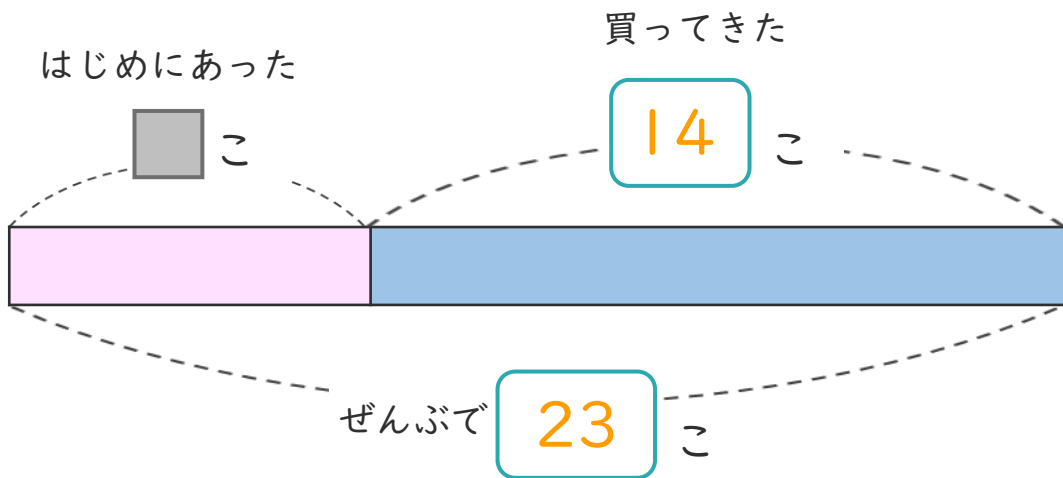
日にち： 月 日

名まえ _____

・ ゼリーが何こかあります。

14こ 買って きたので、ぜんぶで 23こ になりました。

① 下の図の □ にあう 数を書きましょう。



② はじめにあった ゼリーは何こですか。

しきと 答えを書きましょう。

しき $\left(23 - 14 = 9 \right)$

答え $\left(9 \text{こ} \right)$

<筆算スペース>

