



はこの形 3

◎ 辺の長さの読み取り

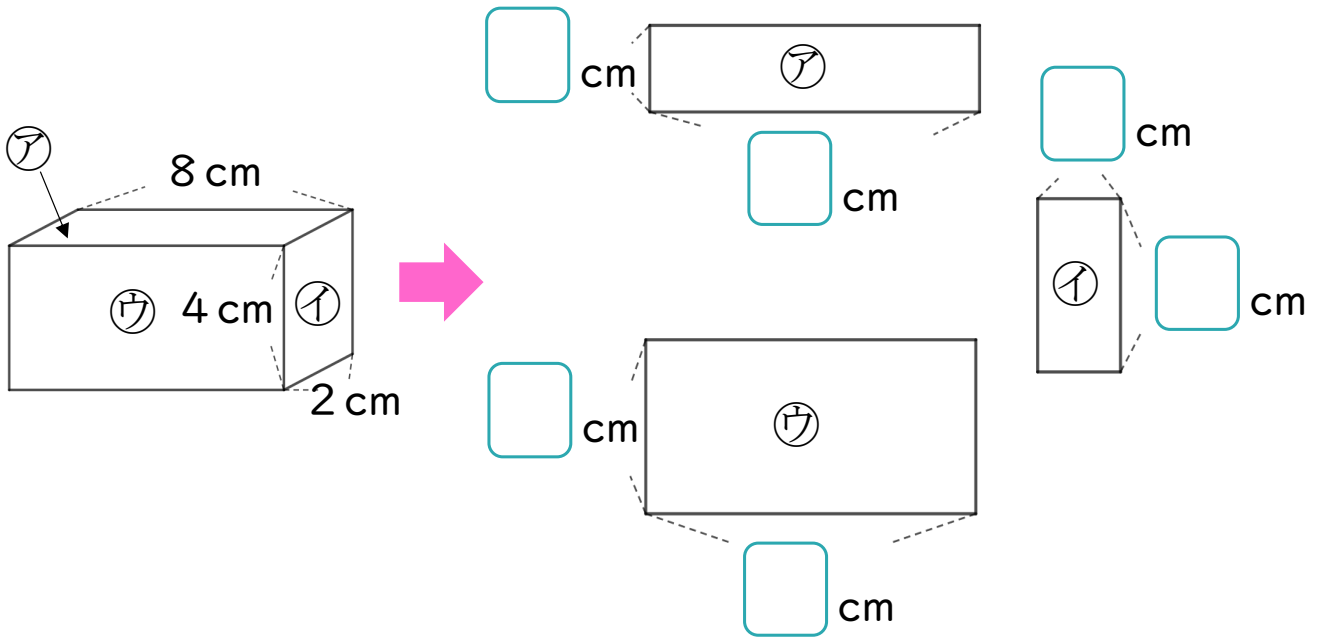
13

日にち： 月 日

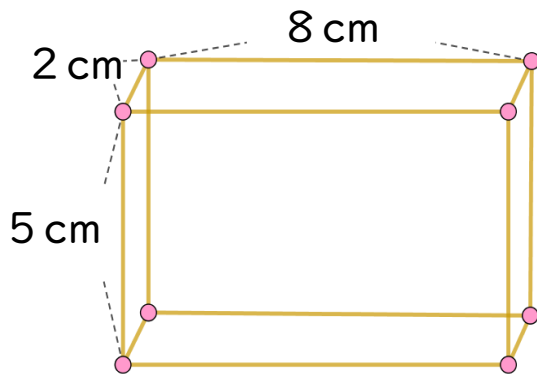
名まえ _____

1 つぎのはこの面をうつしとりました。

にあてはまる数を書きましょう。



2 ひごとねん土玉をつかって、下のようにはこの形を作ります。



① 5 cmのひごはぜんぶで何本ありますか。

答え： _____

② ねん土玉はぜんぶで何こありますか。

答え： _____





はこの形 3

◎ 辺の長さの読み取り

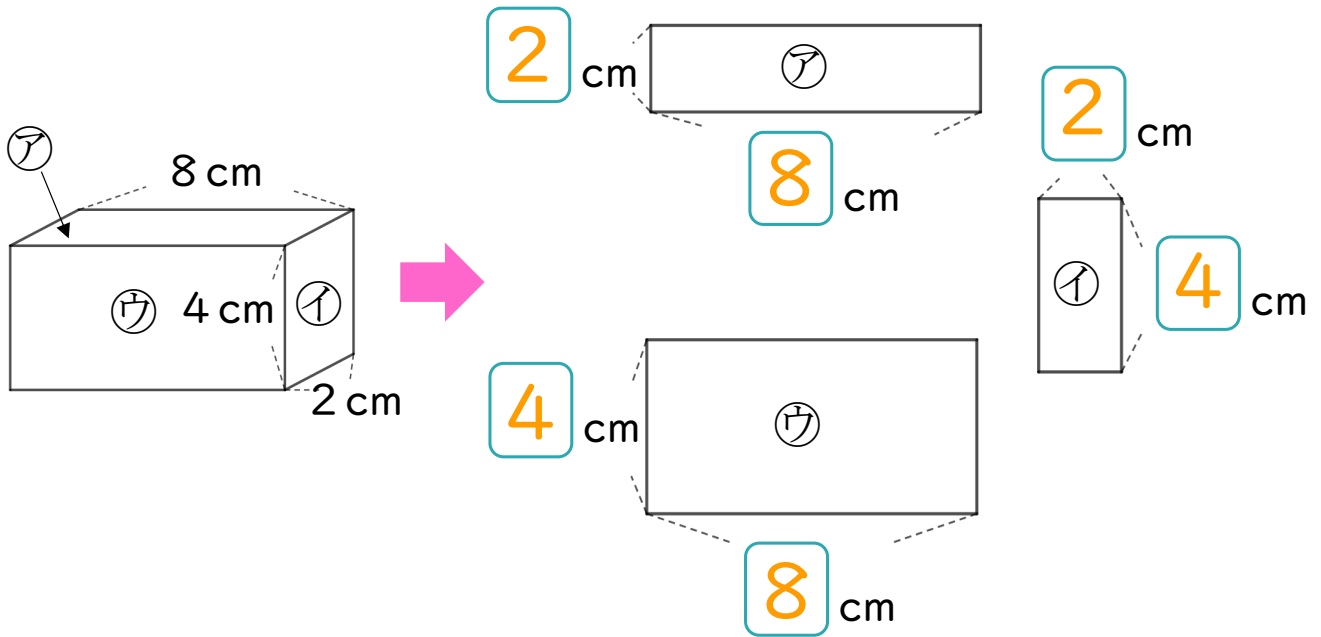
13

日にち： 月 日

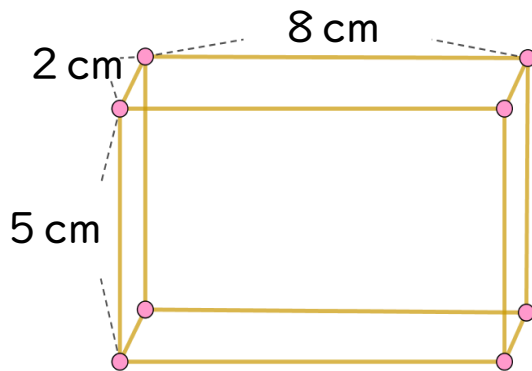
名まえ _____

1 つぎのはこの面をうつしとりました。

にあてはまる数を書きましょう。



2 ひごとねん土玉をつかって、下のようにはこの形を作ります。



① 5 cmのひごはぜんぶで何本ありますか。

答え： 4本

② ねん土玉はぜんぶで何こありますか。

答え： 8こ

