



4けたの数5

● 4けたの
それぞれのくらの数字



日にち： 月 日

名まえ _____

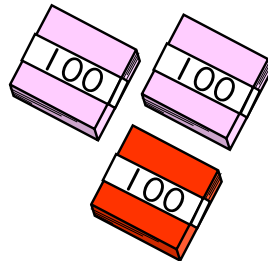

1 にあう数を書きましょう。

① 千のくらの数字が4, 百のくらの数字が8, 十のくらの数字が7, 一のくらの数字が5の数は です。

② 3426の千のくらの数字は , 百のくらの数字は ,
十のくらの数字は , 一のくらの数字は です。

③ 千のくらの数字が8, 百のくらの数字が0, 十のくらの数字が9, 一のくらの数字が1の数は です。

2 色紙の数を 数字で書きましょう。



[まい]



4けたの数5

● 4けたの
それぞれのくらの数字



日にち： 月 日

名まえ _____

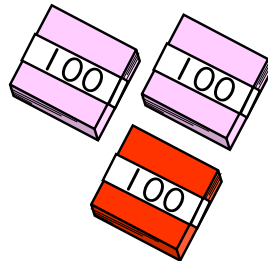

1 にあう数を書きましょう。

① 千のくらの数字が4, 百のくらの数字が8, 十のくらの数字が7, 一のくらの数字が5の数は です。

② 3426の千のくらの数字は , 百のくらの数字は ,
十のくらの数字は , 一のくらの数字は です。

③ 千のくらの数字が8, 百のくらの数字が0, 十のくらの数字が9, 一のくらの数字が1の数は です。

2 色紙の数を 数字で書きましょう。



まい