

分数4

○分の一だけ色をぬる

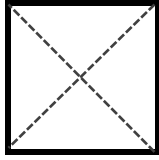


日にち： 月 日

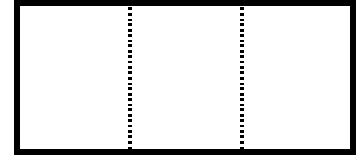
名まえ _____

1 つぎの大きさに色をぬりましょう。

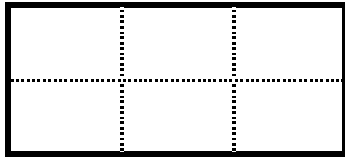
① $\frac{1}{4}$



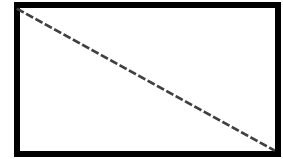
④ $\frac{1}{3}$



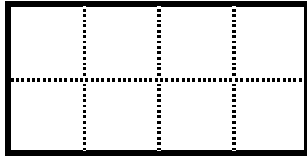
② $\frac{1}{6}$




⑤ $\frac{1}{2}$



③ $\frac{1}{8}$



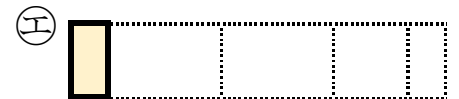
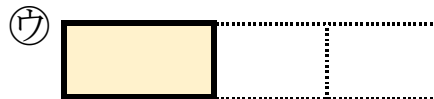
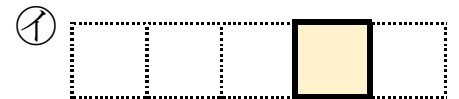
⑥ $\frac{1}{7}$



2 もとの大きさの $\frac{1}{5}$ はどれですか。



もとの大きさ



答え： _____



分数4

○分の一だけ色をぬる



日にち： 月 日


名まえ

1 つぎの大きさに色をぬりましょう。

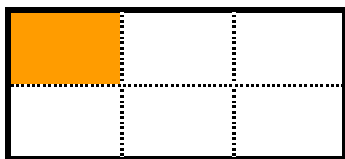
① $\frac{1}{4}$



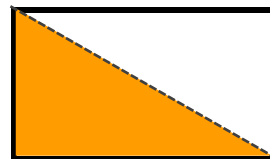
④ $\frac{1}{3}$



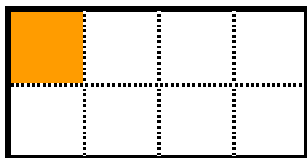
② $\frac{1}{6}$




⑤ $\frac{1}{2}$



③ $\frac{1}{8}$



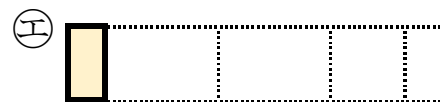
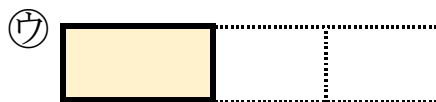
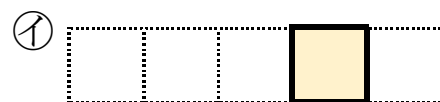
⑥ $\frac{1}{7}$



2 もとの大きさの $\frac{1}{5}$ はどれですか。



もとの大きさ



答え： イ