



かけ算 3

● かけ算のしきを作ろう

14

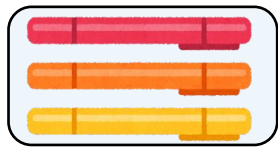
日にち： 月 日

名まえ _____

・ かけ算のしきに書きましょう。

①

3本




の 4つ分

しき：

②

7こ



の 5ばい

しき：

③

2人



の 6台分

しき：

④

3こ



の 2ばい

しき：





かけ算 3

● かけ算のしきを作ろう

14

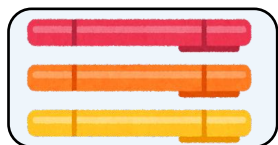
日にち： 月 日

名まえ _____

・ かけ算のしきに書きましょう。

①

3本



の 4つ分

しき： 3×4

②

7こ



の 5ばい

しき： 7×5

③

2人



の 6台分

しき： 2×6

④

3こ



の 2ばい

しき： 3×2

