



分数3


● もとの大きさの○分の一をさがす

14

日にち： 月 日

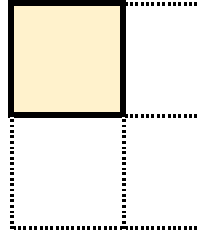
名まえ

1 もとの大きさの $\frac{1}{3}$ はどれですか。

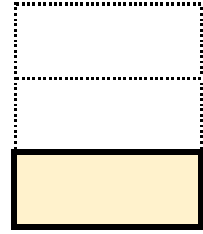


もとの大きさ

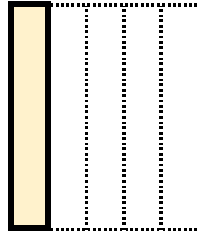
ア




イ



ウ



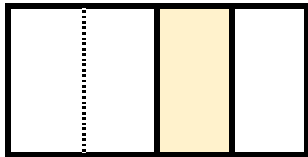
エ



答え：

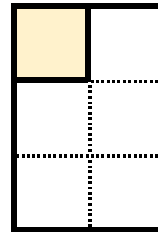
2 色をぬったぶぶんはもとの大きさの何分の一ですか。

①




答え：

③



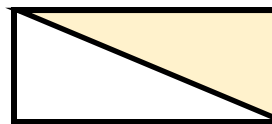
答え：

②



答え：

④




答え：



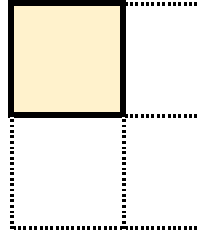


1 もとの大きさの $\frac{1}{3}$ はどれですか。

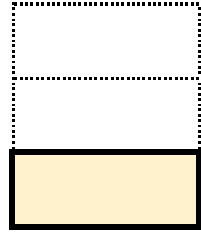


もとの大きさ


ア




イ



ウ



エ

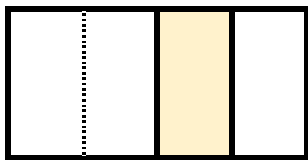


答え：

イ

2 色をぬったぶぶんはもとの大きさの何分の一ですか。

①

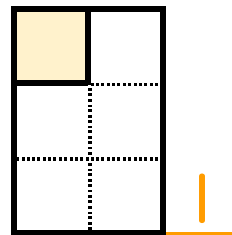


$\frac{1}{4}$

答え：

4

③




$\frac{1}{6}$

答え：

6

②

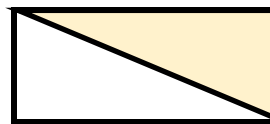


$\frac{1}{5}$

答え：

5

④



$\frac{1}{2}$

答え：

2

