



分数6

● もとの大きさはいくつ分？




日にち： 月 日


名まえ

1 もとの長さの $\frac{1}{9}$ をいくつあつめると、もとの長さになりますか。

もとの長さの $\frac{1}{9}$




もとの長さ



答え：

2 もとの長さの $\frac{1}{6}$ をいくつあつめると、もとの長さになりますか。

もとの長さの $\frac{1}{6}$



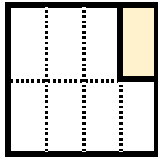
もとの長さ



答え：

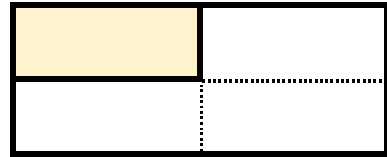
3 色をぬったぶぶんはもとの大きさの何分の一ですか。

①




答え：

②



答え：





分数6

● もとの大きさはいくつ分？


14

日にち： 月 日


名まえ

1 もとの長さの $\frac{1}{9}$ をいくつあつめると、もとの長さになりますか。

もとの長さの $\frac{1}{9}$



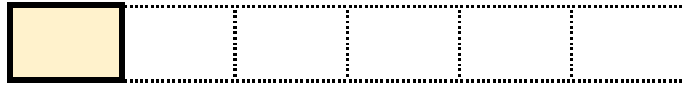
もとの長さ



答え： 9つ

2 もとの長さの $\frac{1}{6}$ をいくつあつめると、もとの長さになりますか。

もとの長さの $\frac{1}{6}$



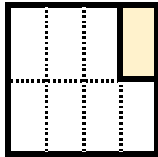
もとの長さ



答え： 6つ

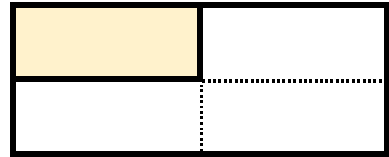
3 色をぬったぶぶんはもとの大きさの何分の一ですか。

①



答え： $\frac{1}{8}$

②



答え： $\frac{1}{4}$

