



長さのたんい 7

● ものさしではかる (mm)

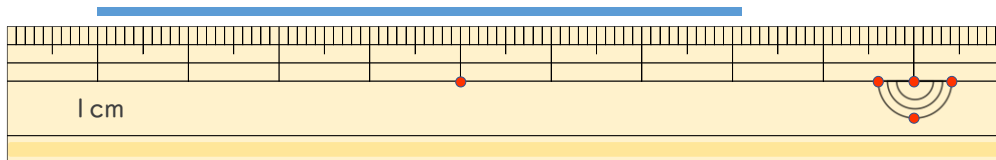
14

日にち： 月 日

名まえ _____

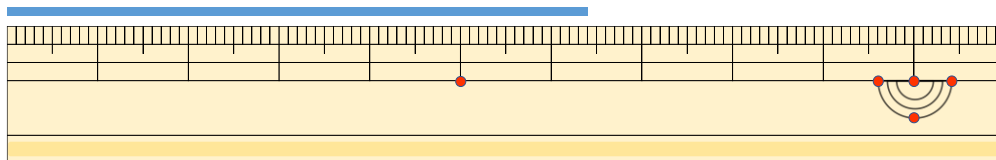
1 線の長さはどれだけですか。

①



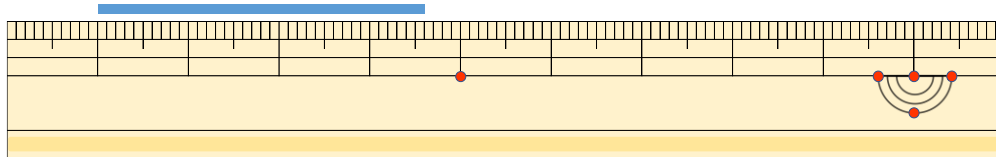
答え ()

②



こた
答え ()

③



こた
答え ()

2 線の長さをものさしではかりましょう。

①



こた
答え ()

②



こた
答え ()



長さのたんい 7

● ものさしではかる (mm)

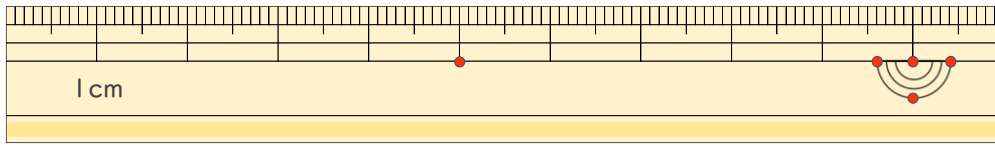
14

日にち： 月 日

名まえ _____

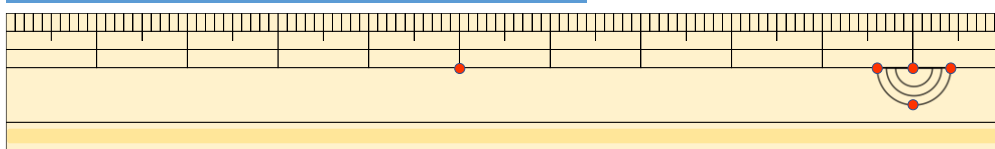
1 ^{せん} ^{なが} 線の長さはどれだけですか。

①



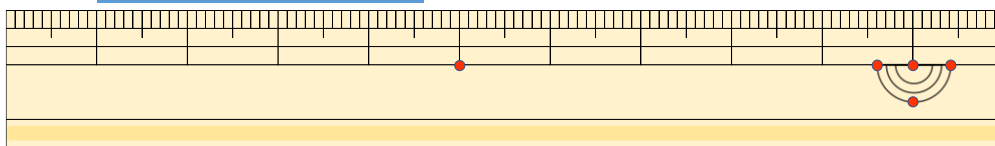
答え (7 cm 1 mm)

②



^{こた} 答え (6 cm 4 mm)

③



^{こた} 答え (3 cm 6 mm)

2 ^{せん} ^{なが} 線の長さをものさしではかりましょう。

①



^{こた} 答え (9 cm)

②



^{こた} 答え (3 cm)

