



長さのたんい 7

● ものさしではかる (mm)

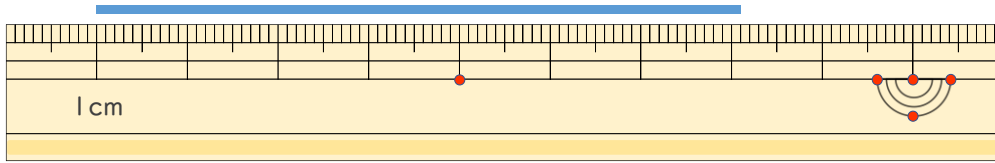
14

日にち： 月 日

名まえ _____

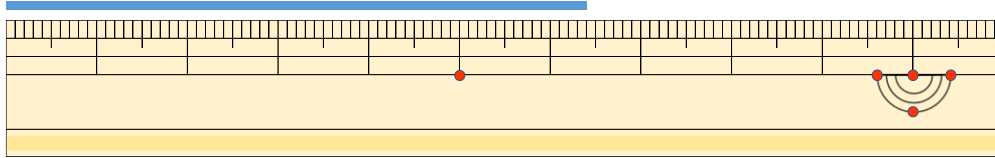
1 ^{せん}線の ^{なが}長さは どれだけですか。

①



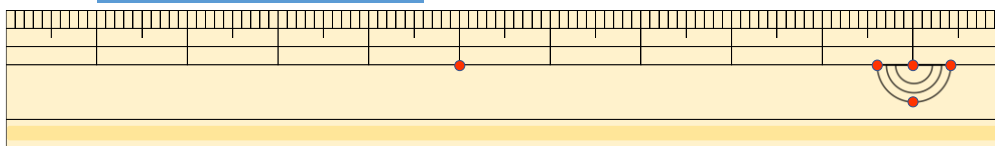
^{こた}答え ()

②



^{こた}答え ()

③



^{こた}答え ()

2 ^{せん}線の ^{なが}長さを ものさしではかりましょう。

①



^{こた}答え ()

②



^{こた}答え ()



長さのたんい 7

● ものさしではかる (mm)

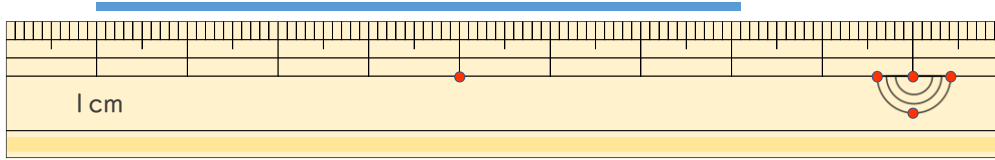
14

日にち： 月 日

名まえ _____

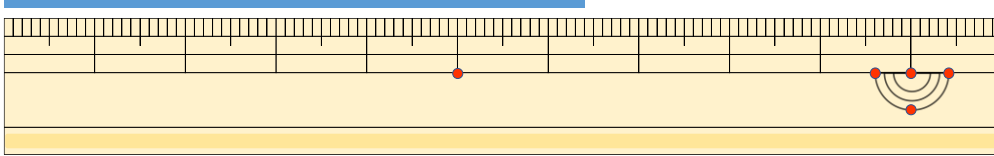
1 ^{せん}線の ^{なが}長さは どれだけですか。

①



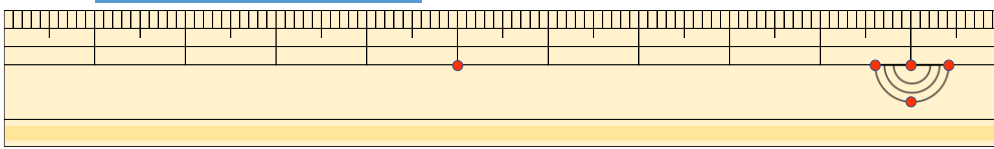
こた 答え (7 cm 1 mm)

②



こた 答え (6 cm 4 mm)

③



こた 答え (3 cm 6 mm)

2 ^{せん}線の ^{なが}長さを ものさしではかりましょう。

①



こた 答え (9 cm)

②



こた 答え (3 cm)

