



# 長さのたんい 3

● 物のさしの見かた (cm)

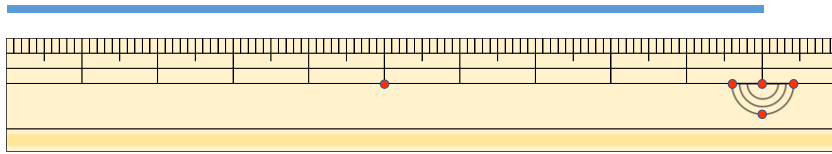
14

日にち：            月            日

名まえ \_\_\_\_\_

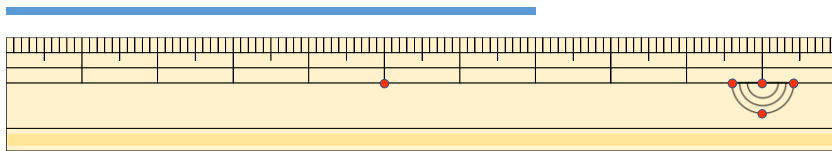
1 線の長さは何cmでしょう。

①



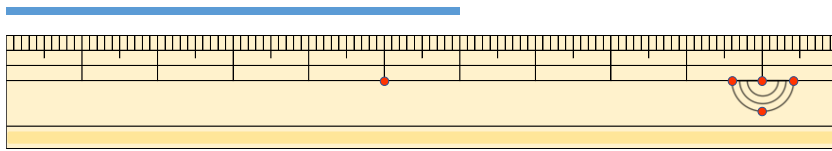
こた 答え (            )

②



こた 答え (            )

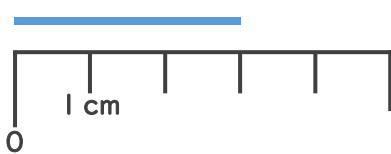
③



こた 答え (            )

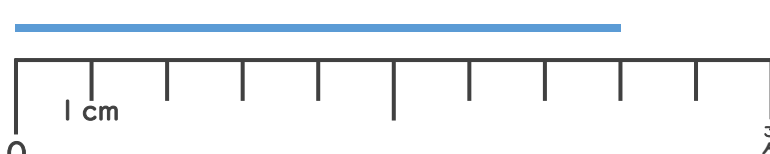
2 線の長さは何cmでしょう。

①



こた 答え (            )

②



こた 答え (            )





# 長さのたんい 3

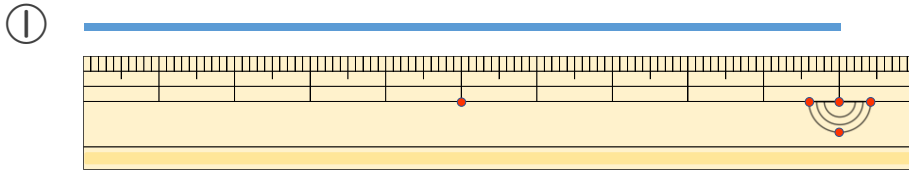
● 物のさしの見かた (cm)

14

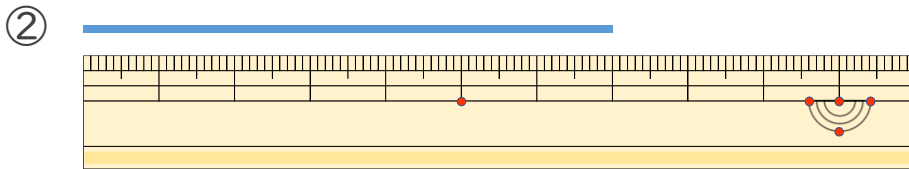
日にち： 月 日

名まえ \_\_\_\_\_

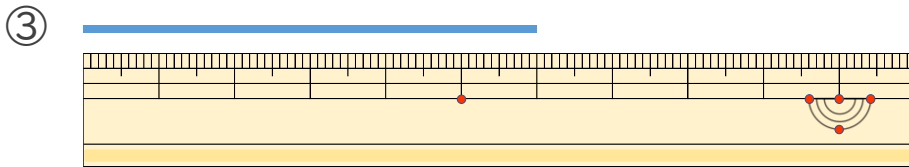
1 線の長さは何cmでしょう。



こた 答え ( 10cm )

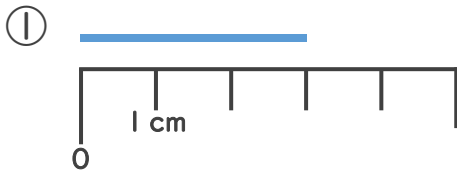


こた 答え ( 7cm )

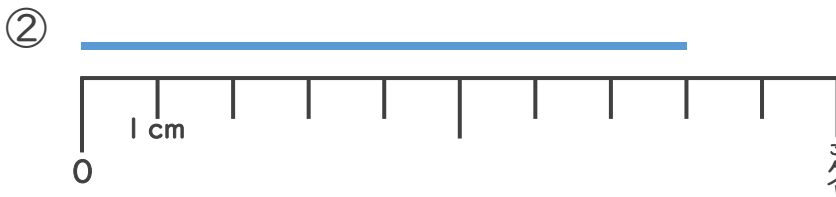


こた 答え ( 6cm )

2 線の長さは何cmでしょう。



こた 答え ( 3cm )



こた 答え ( 8cm )

