



長さのたんい 3

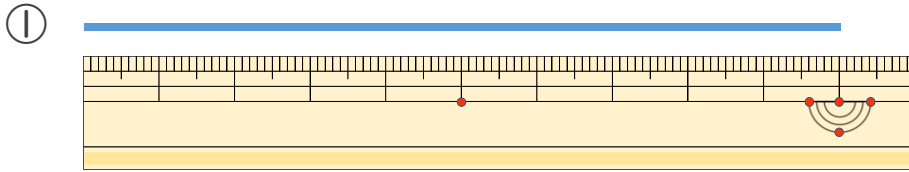
● 物のさしの見かた (cm)

14

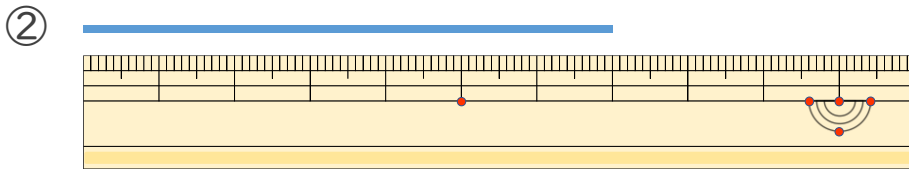
日にち： 月 日

名まえ _____

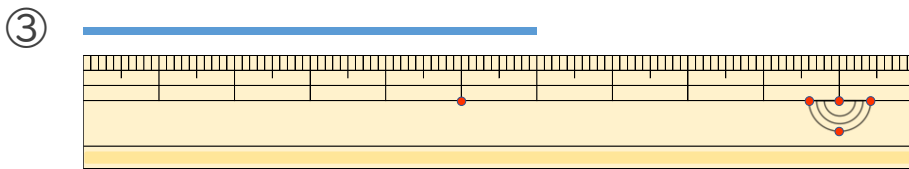
1 線の長さは何cmでしょう。



答え ()

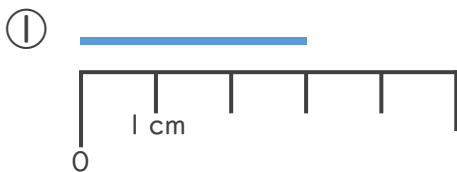


答え ()

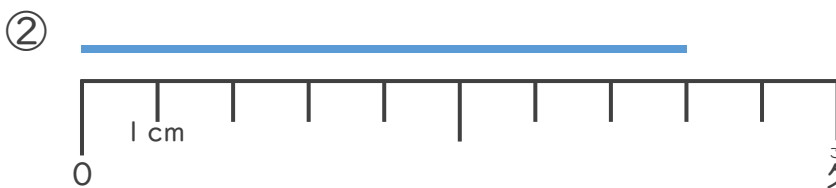


答え ()

2 線の長さは何cmでしょう。



答え ()



答え ()





長さのたんい 3

● 物のさしの見かた (cm)

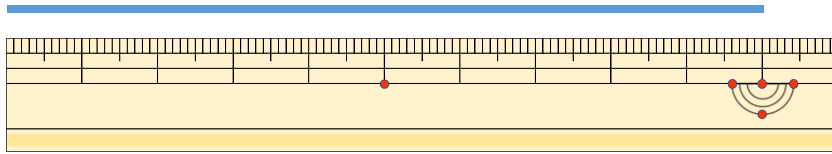
14

日にち： 月 日

名まえ _____

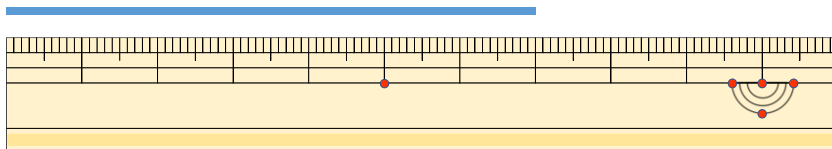
1 線の長さは何cmでしょう。

①



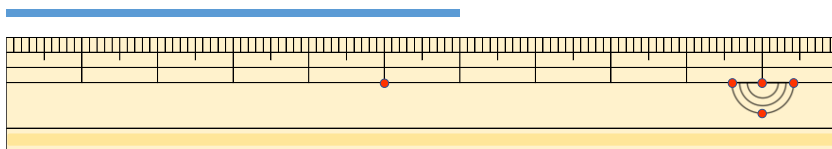
こた 答え (10cm)

②



こた 答え (7cm)

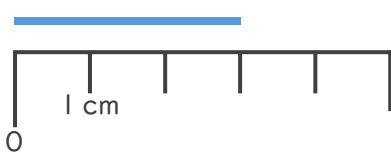
③



こた 答え (6cm)

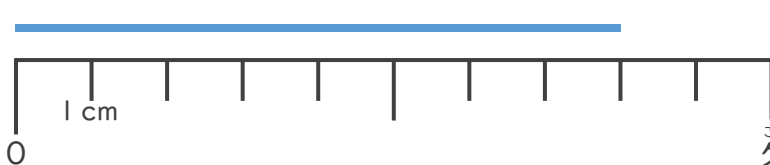
2 線の長さは何cmでしょう。

①



こた 答え (3cm)

②



こた 答え (8cm)

