



長さのたんい 6

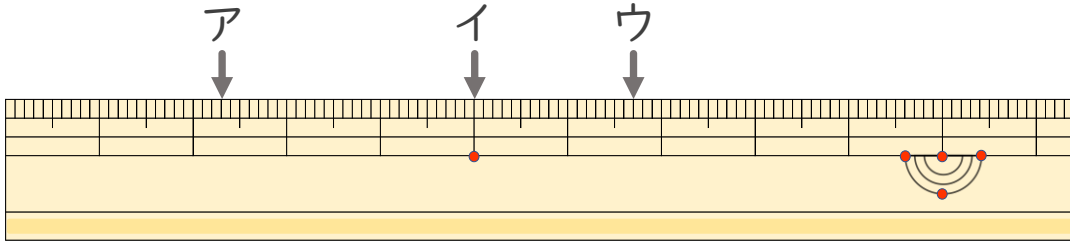
● 物のさしの見かた (mm)

14

日にち： 月 日

名まえ _____

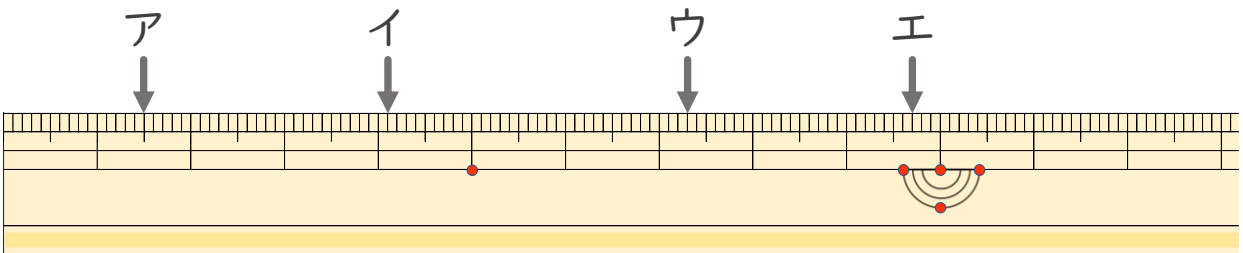
1 ^{ひだり}左はしから ア、イ、ウ、までの ^{なが}長さはそれぞれどれだけで
すか。



ア () イ ()

ウ ()

2 ^{ひだり}左はしから ア、イ、ウ、エまでの ^{なが}長さはそれぞれどれだけで
ですか。



ア () イ ()

ウ () エ ()



長さのたんい 6

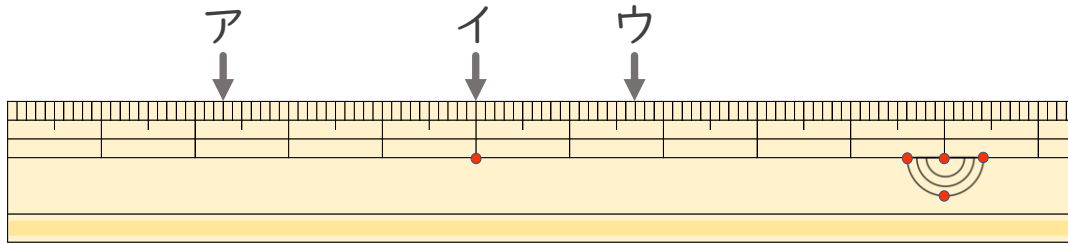
● ものさしの見かた (mm)

14

日にち： 月 日

名まえ _____

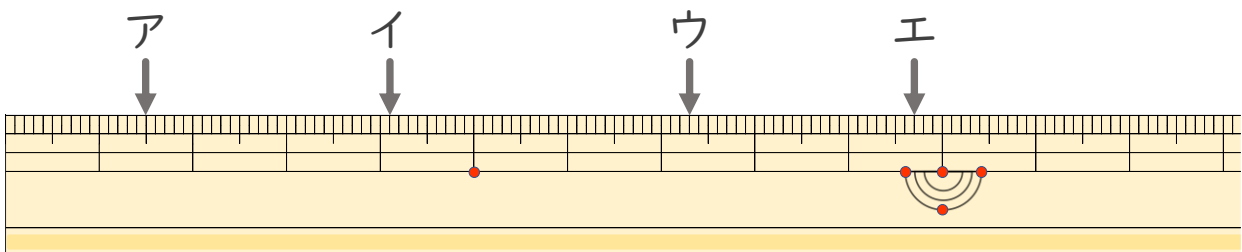
- 1 ^{ひだり}左はしから ア、イ、ウ、までの ^{なが}長さはそれぞれどれだけで
すか。



ア (2 cm 3 mm) イ (5 cm)

ウ (6 cm 7 mm)

- 2 ^{ひだり}左はしから ア、イ、ウ、エまでの ^{なが}長さはそれぞれどれだけで
ですか。



ア (1 cm 5 mm) イ (4 cm 1 mm)

ウ (7 cm 3 mm) エ (9 cm 7 mm)

