



# はこの形 4

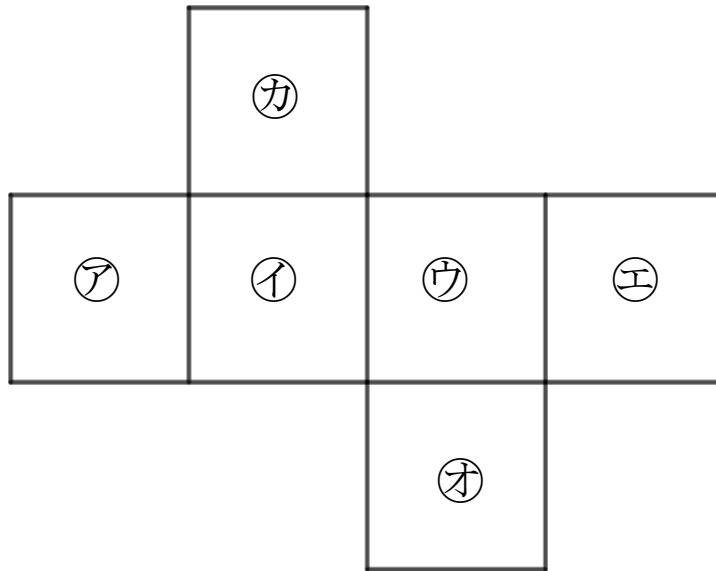
サイコロの向かい合う面

14

日にち： 月 日

名まえ \_\_\_\_\_

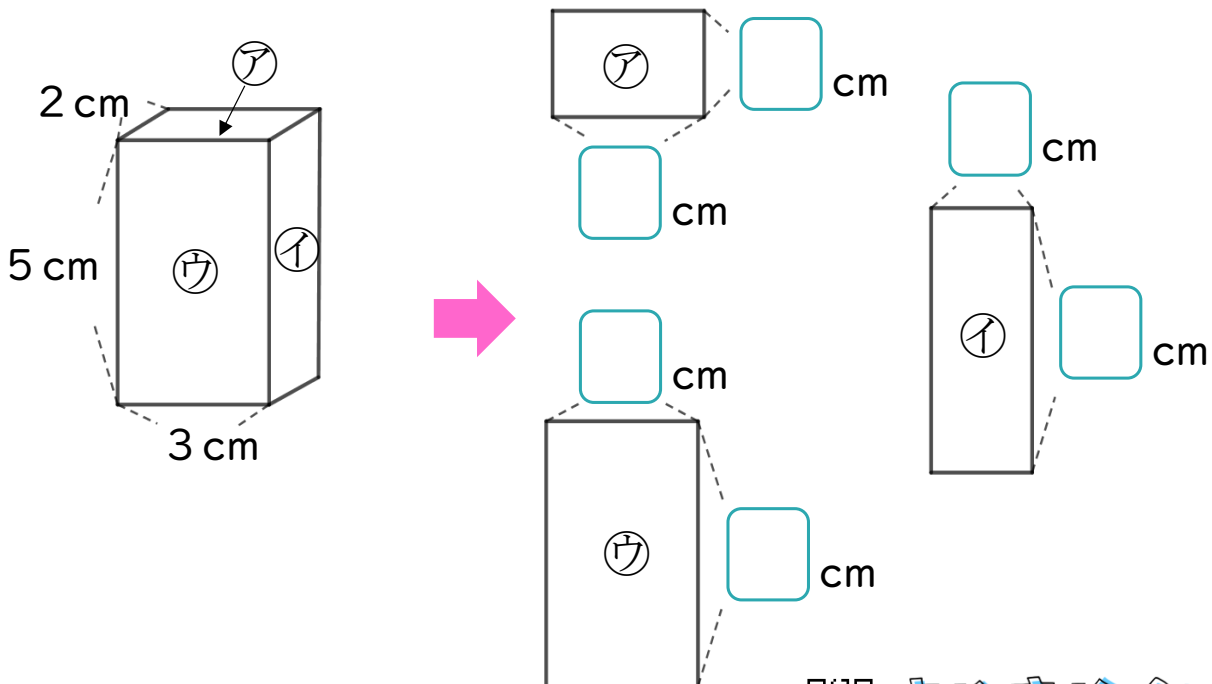
- 1 つぎの図はサイコロの形を切りひらいたものです。  
 組み立てたときにおかい合う面を3組さがして、  
 ㉠～㉣で答えましょう。



答え：                    と                    ,                    と                    ,                    と

- 2 つぎのはこの面をうつしとりました。

にあてはまる数を書きましょう。





# はこの形 4

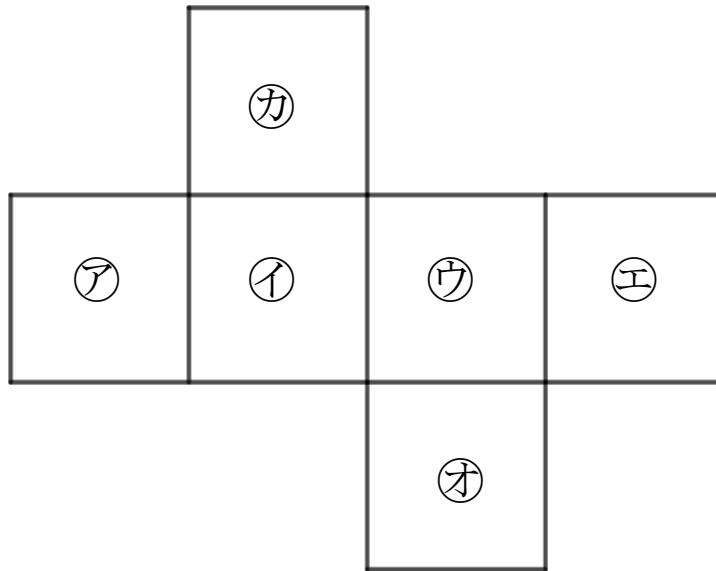
サイコロの向かい合う面

14

日にち： 月 日

名まえ \_\_\_\_\_

- 1 つぎの図はサイコロの形を切りひらいたものです。組み立てたときにおかい合う面を3組さがして、ア～カで答えましょう。



答え： ア と ウ , イ と エ , オ と カ

- 2 つぎのはこの面をうつしとりました。

□ にあてはまる数を書きましょう。

