



かけ算 26

● テープの3ばいの長さ

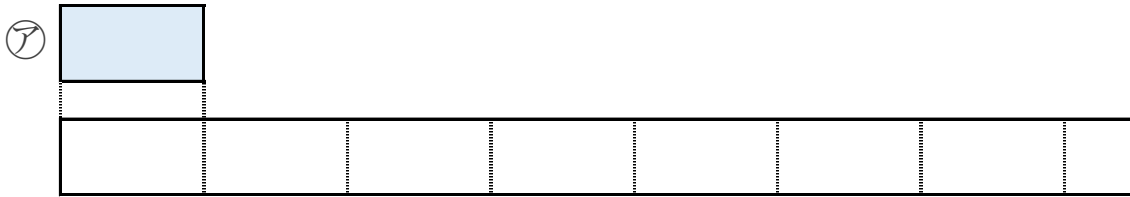
14

日にち： 月 日

名まえ _____

1 ㊦のテープの5ばいの長さを求めましょう。

① ㊦のテープの5ばいの長さに色をぬりましょう。




② ㊦のテープの長さをはかると、7cmでした。

①でぬったところの長さは何cmですか。

しき：

答え： _____

2 下のつみきの数をもとめるかけ算のしきを2つ書きましょう。



しき： () ()



かけ算 26

● テープの3ばいの長さ

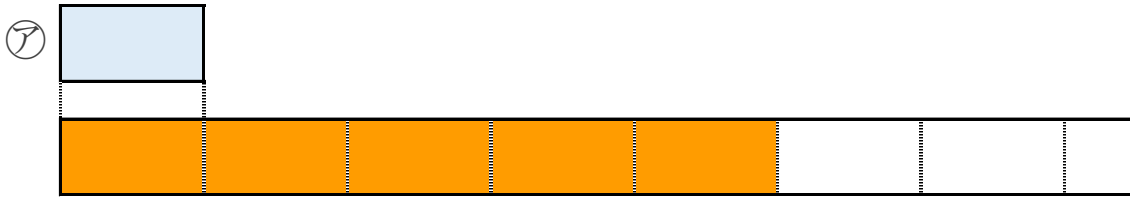
14

日にち： 月 日

名まえ _____

1 ㊦のテープの5ばいの長さを求めましょう。

① ㊦のテープの5ばいの長さに色をぬりましょう。




② ㊦のテープの長さをはかると、7cmでした。

①でぬったところの長さは何cmですか。

$$\text{しき} : 7 \times 5 = 35$$

答え : 35cm

2 下のつみきの数をもとめるかけ算のしきを2つ書きましょう。



$$\text{しき} : (8 \times 7) \quad (7 \times 8)$$

