



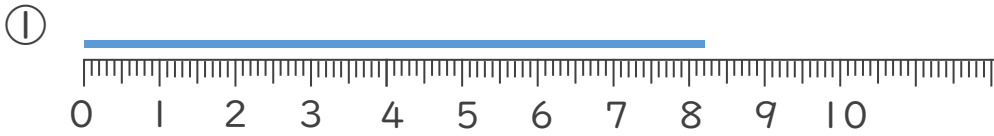
長さのたんい 5 14

● ミリメートル

日にち： 月 日

名まえ

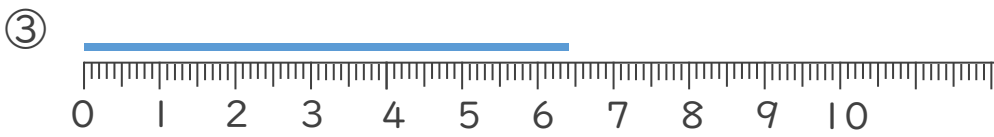
1 ^{せん}線の ^{なが}長さは ^{なん}何cm何^{なん}mm でしょう。



^{こた}答え ()



^{こた}答え ()



^{こた}答え ()

2 ^{せん}線の ^{なが}長さを ^{もの}ものさしで はかりましょ



^{こた}答え ()



^{こた}答え ()



長さのたんい 5

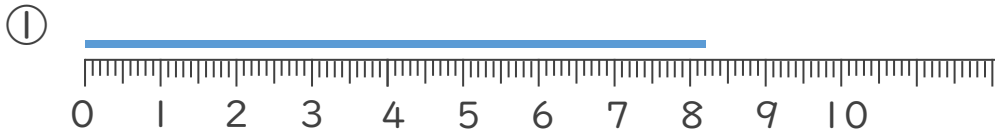
● ミリメートル

14

日にち： 月 日

名まえ _____

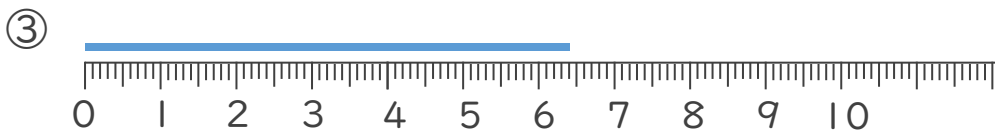
1 ^{せん} ^{なが} ^{なん} ^{なん} 線の長さは何cm何mmでしょう。



こた 答え (8 cm 2 mm)



こた 答え (3 cm 5 mm)



こた 答え (6 cm 4 mm)

2 ^{せん} ^{なが} 線の長さをものさしではかりましょう。



こた 答え (9 cm)



こた 答え (5 cm)

