





# 長さのたんい 5

● ミリメートル

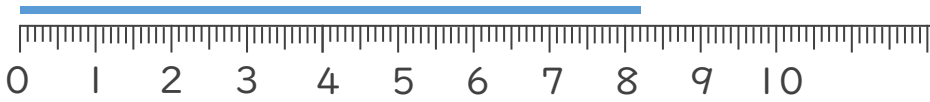
14

日にち：            月            日

名まえ \_\_\_\_\_


1 <sup>せん</sup>線の <sup>なが</sup>長さは <sup>なん</sup>何 <sup>なん</sup>cm何mm でしょう。

①



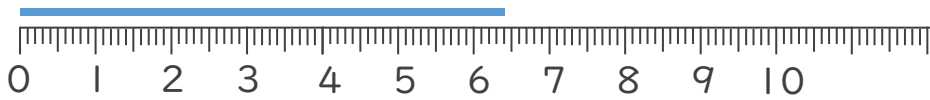
<sup>こた</sup>答え ( 8 cm 2 mm )

②



<sup>こた</sup>答え ( 3 cm 5 mm )

③



<sup>こた</sup>答え ( 6 cm 4 mm )

2 <sup>せん</sup>線の <sup>なが</sup>長さをものさしではかりましょう。

①



<sup>こた</sup>答え ( 9 cm )

②



<sup>こた</sup>答え ( 5 cm )

