



かけ算 26

● リボンの2ばいの長さ

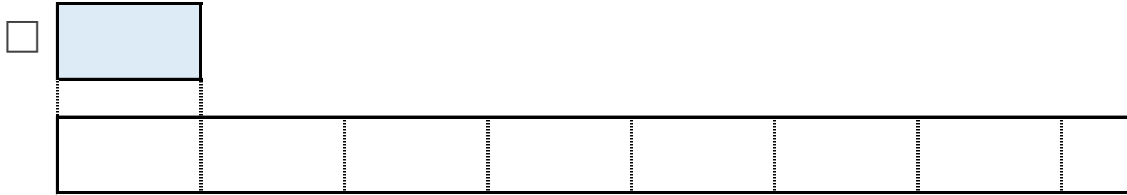
14

日にち： 月 日

名まえ _____

□のリボンの5ばいの長さを求めましょう。

① □のリボンの5ばいの長さに色をぬりましょう。




② ㊦のリボンの長さは、7cmです。

①でぬったところの長さは何cmですか。

しき：

答え： _____

2 下のつみきの数をもとめるかけ算のしきを2つ書きましょう。



しき： () ()



かけ算 26

● リボンの2ばいの長さ

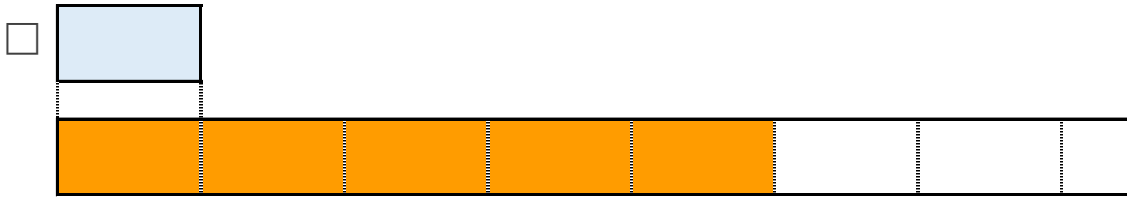
14

日にち： 月 日

名まえ _____

□のリボンの5ばいの長さをもとめましょう。

① □のリボンの5ばいの長さに色をぬりましょう。




② ①のリボンの長さは、7cmです。

①でぬったところの長さは何cmですか。

$$\text{しき： } 7 \times 5 = 35$$

答え： 35cm

2 下のつみきの数をもとめるかけ算のしきを2つ書きましょう。



$$\text{しき： } (8 \times 7) \quad (7 \times 8)$$

