



分数7

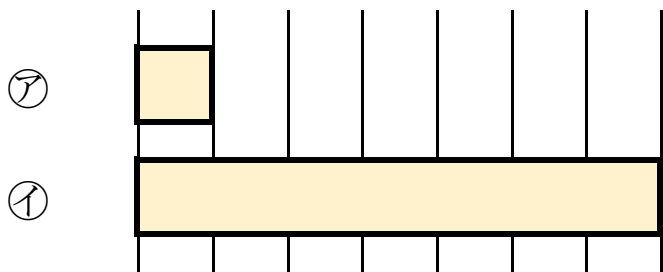
何倍？何分の一？



日にち： 月 日

名まえ

1 つぎの図を見てもんだいに答えましょう。



① 下の①のテープの長さは、⑦のテープの長さの何ばいですか。

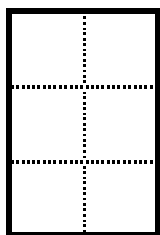
答え： _____

② 上の⑦のテープの長さは、①のテープの長さの何分の一ですか。

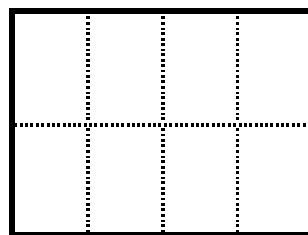
答え： _____

2 つぎの大きさに色をぬりましょう。

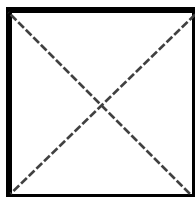
① $\frac{1}{6}$



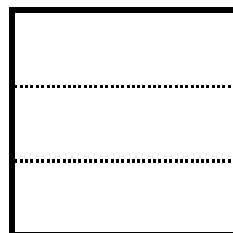
③ $\frac{1}{8}$



② $\frac{1}{4}$



④ $\frac{1}{3}$





分数7

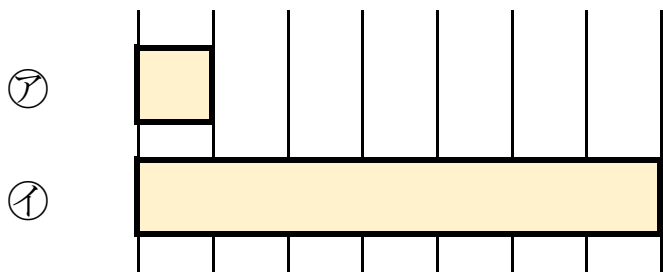
何倍？何分の一？



日にち： 月 日

名まえ

1 つぎの図を見てもんだいに答えましょう。



① 下の①のテープの長さは、⑦のテープの長さの何ばいですか。

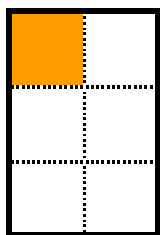
答え： 7 ばい

② 上の⑦のテープの長さは、①のテープの長さの何分の一ですか。

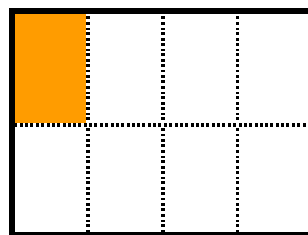
答え： $\frac{1}{7}$

2 つぎの大きさに色をぬりましょう。

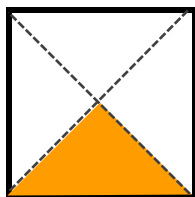
① $\frac{1}{6}$



③ $\frac{1}{8}$



② $\frac{1}{4}$



④ $\frac{1}{3}$

