



長さのたんい 8

◎ 直線の長さをはかる (mm)

14


日にち： 月 日

名まえ _____

1 ^{せん}線の ^{なが}長さをものさしではかりましょう。



^{こた}答え ()

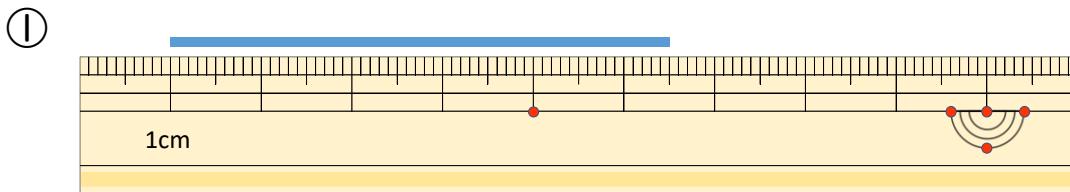


^{こた}答え ()

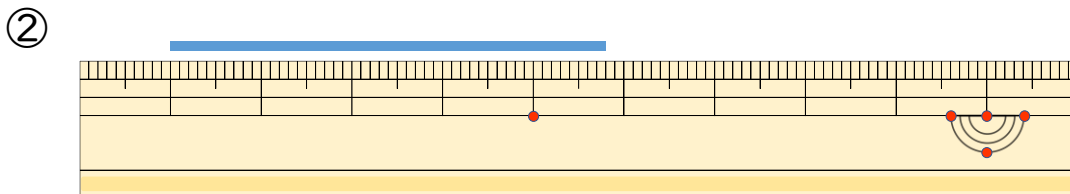


^{こた}答え ()

2 ^{せん}線の ^{なが}長さはどれだけですか。



答え ()



^{こた}答え ()



長さのたんい 8

◎ 直線の長さをはかる (mm)

14


日にち： 月 日

名まえ _____

1 ^{せん}線の ^{なが}長さをものさしではかりましょう。



こた 答え (5 cm 2 mm)

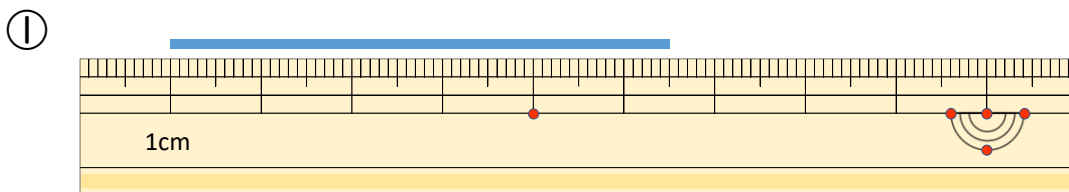


こた 答え (4 cm)

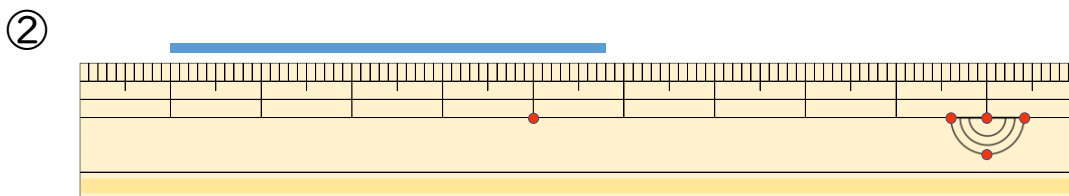


こた 答え (3 cm 7 mm)

2 ^{せん}線の ^{なが}長さはどれだけですか。



こた 答え (5 cm 5 mm)



こた 答え (4 cm 8 mm)

