



長さのたんい 8

◎ 直線の長さをはかる (mm)

14

日にち： 月 日

名まえ _____

1 線の長さをものさしではかりましょう。

①



答え ()

②



答え ()

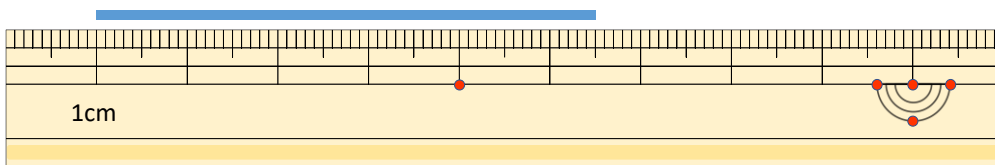
③



答え ()

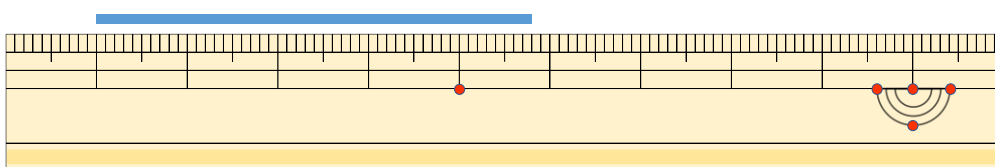
2 線の長さはどれだけですか。

①



答え ()

②



答え ()





長さのたんい 8

◎ 直線の長さをはかる (mm)

14


日にち： 月 日

名まえ _____

1 ^{せん}線の ^{なが}長さをものさしではかりましょう。



こた 答え (5 cm 2 mm)

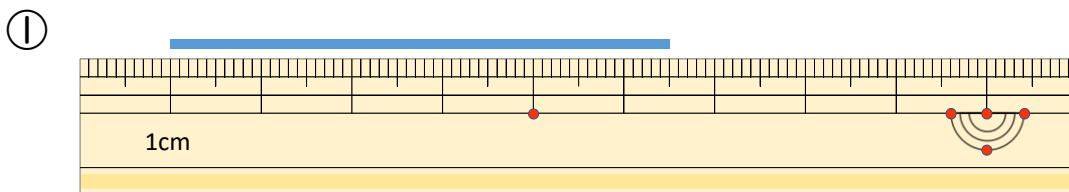


こた 答え (4 cm)

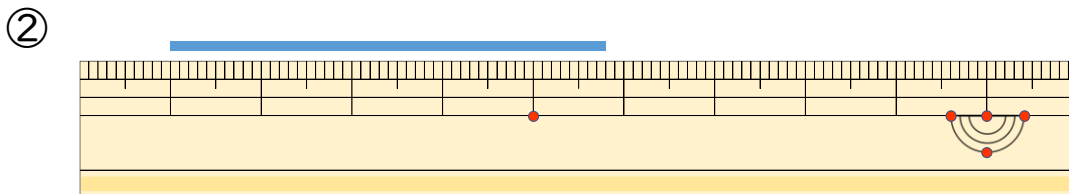


こた 答え (3 cm 7 mm)

2 ^{せん}線の ^{なが}長さはどれだけですか。



こた 答え (5 cm 5 mm)



こた 答え (4 cm 8 mm)