



かけ算 2

◎ 絵を見てかけ算の
しきを作ろう



14

日にち： 月 日

名まえ _____

・ 絵を見て、かけ算のしきをつかって、ぜんぶでいくつか答えましょう。

①



しき：

答え： _____

②



しき：

答え： _____





かけ算 2

◎ 絵を見てかけ算の
しきを作ろう



14

日にち： 月 日

名まえ _____

・ 絵を見て、かけ算のしきをつかって、ぜんぶでいくつか答えましょう。

①



しき： $7 \times 2 = 14$

答え： 14こ

②



しき： $3 \times 5 = 15$

答え： 15こ

