

## 分数 2

色をぬった部分は何分の一？

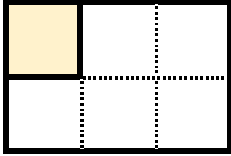
14

日にち：            月            日

名まえ \_\_\_\_\_

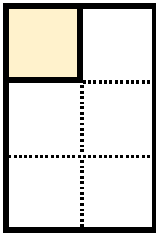
・色をぬったぶんはもとの大きさの何分の一ですか。

①



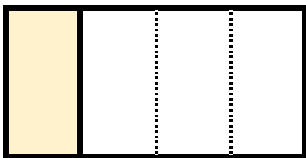
答え： \_\_\_\_\_

②



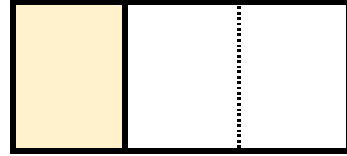
答え： \_\_\_\_\_

③



答え： \_\_\_\_\_

④



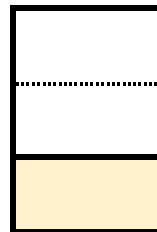
答え： \_\_\_\_\_

⑤




答え： \_\_\_\_\_

⑥



答え： \_\_\_\_\_



## 分数 2

色をぬった部分は何分の一？

14

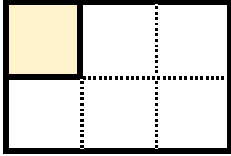
日にち：            月            日

名まえ

---

・色をぬったぶんはもとの大きさの何分の一ですか。

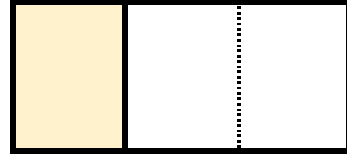
①



答え： $\frac{1}{6}$

---

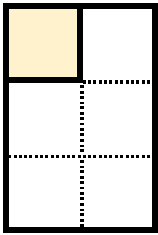
④



答え： $\frac{1}{3}$

---

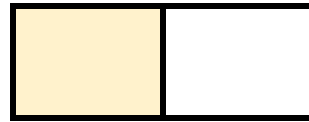
②



答え： $\frac{1}{6}$

---

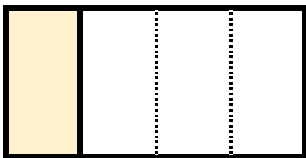
⑤



答え： $\frac{1}{2}$

---

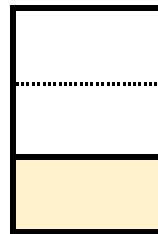
③



答え： $\frac{1}{4}$

---

⑥



答え： $\frac{1}{3}$

---

