



# 長方形と正方形 5

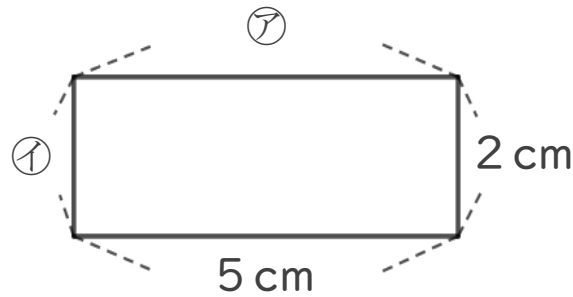
14

◎ 長方形のまわりの長さ

日にち： 月 日

名まえ \_\_\_\_\_

1 つぎの形は長方形です。次の問題に答えましょう。



① ア、イ、エのへんの長さは、それぞれ何cmですか。

答え： ア・・・

イ・・・

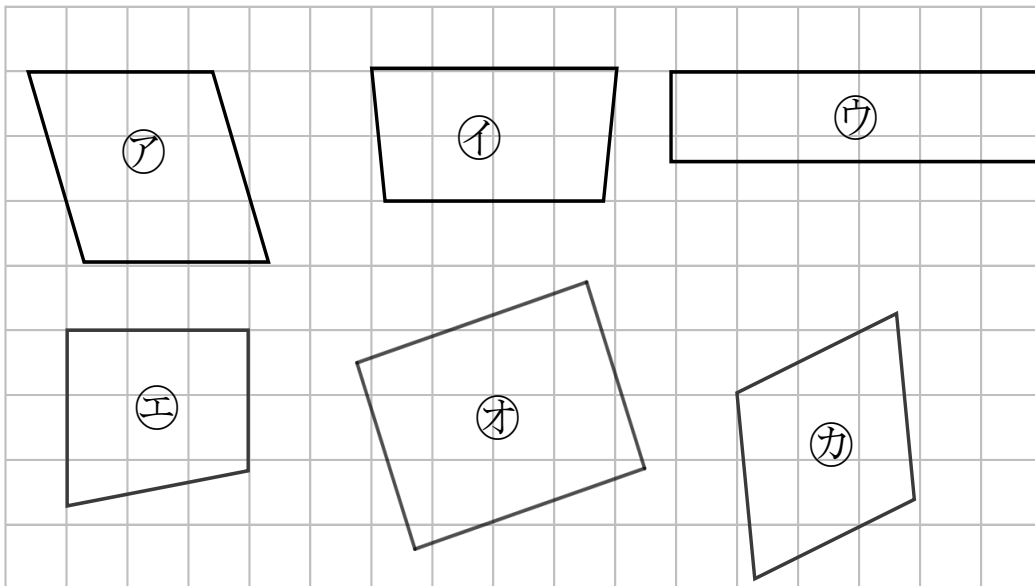
② この長方形のまわりの長さは何cmですか。

式：

答え： \_\_\_\_\_

2 長方形はどれですか。

三角じょうぎをつかって、ぜんぶ見つけましょう。



答え： \_\_\_\_\_



# 長方形と正方形 5

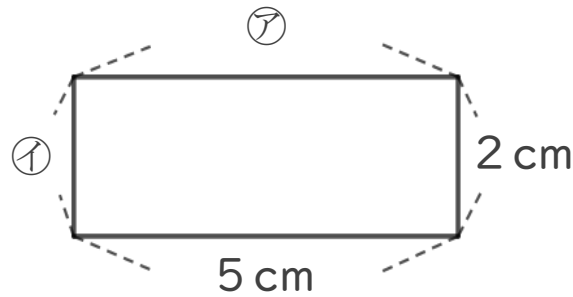
14

◎ 長方形のまわりの長さ

日にち： 月 日

名まえ \_\_\_\_\_

1 つぎの形は長方形です。次の問題に答えましょう。



① ア、イのへんの長さは、それぞれ何cmですか。

答え： ア・・・ 5 cm    イ・・・ 2 cm

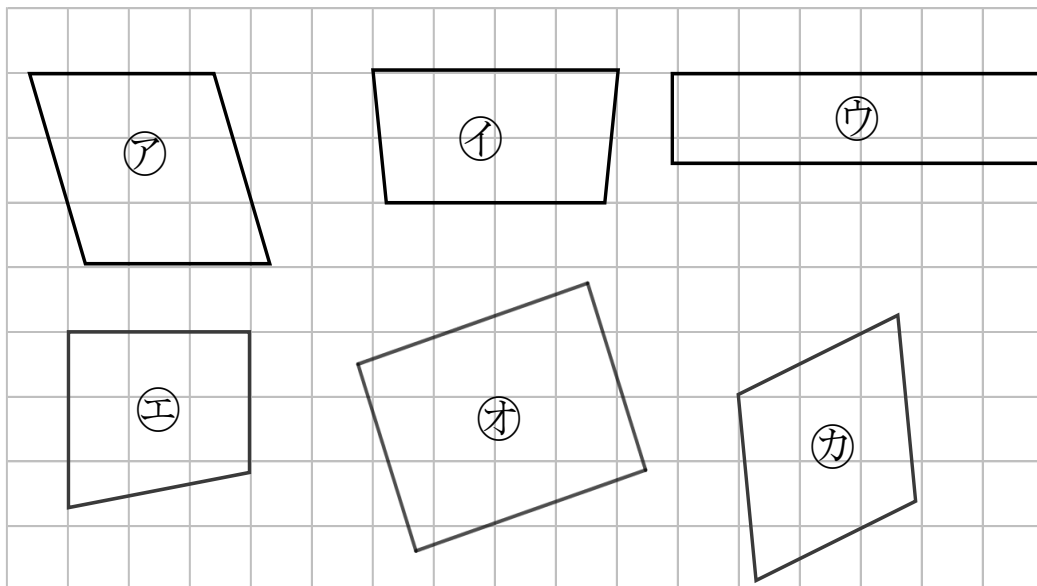
② この長方形のまわりの長さは何cmですか。

式:  $2 + 2 + 5 + 5 = 14$

答え： 14cm

2 長方形はどれですか。

三角じょうぎをつかって、ぜんぶ見つけましょう。



答え： ウ, オ