



図を使って  
考えよう 2

● はじめにあった数は何こ？

15

めざせ100点!

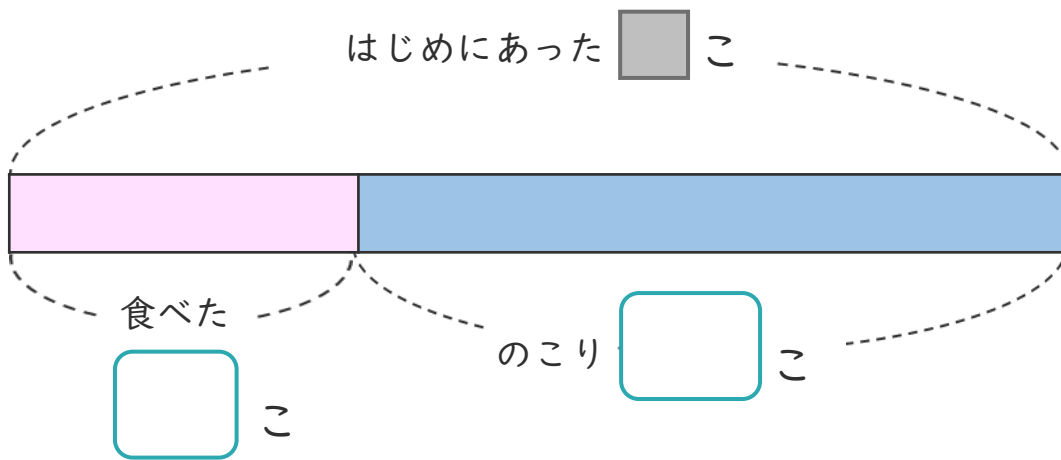


名まえ \_\_\_\_\_

・ あめが何こか ありました。

みんなで9こ 食べたので、のこりが19こになりました。

① 下の図の □ にあう 数を書きましょう。(各25点)




② あめは、はじめに何こ ありましたか。

しきと 答えを書きましょう。(各25点)

しき ( )

答え ( )

<筆算スペース>






図を使って  
考えよう 2

● はじめにあった数は何こ？

15

めざせ100点!

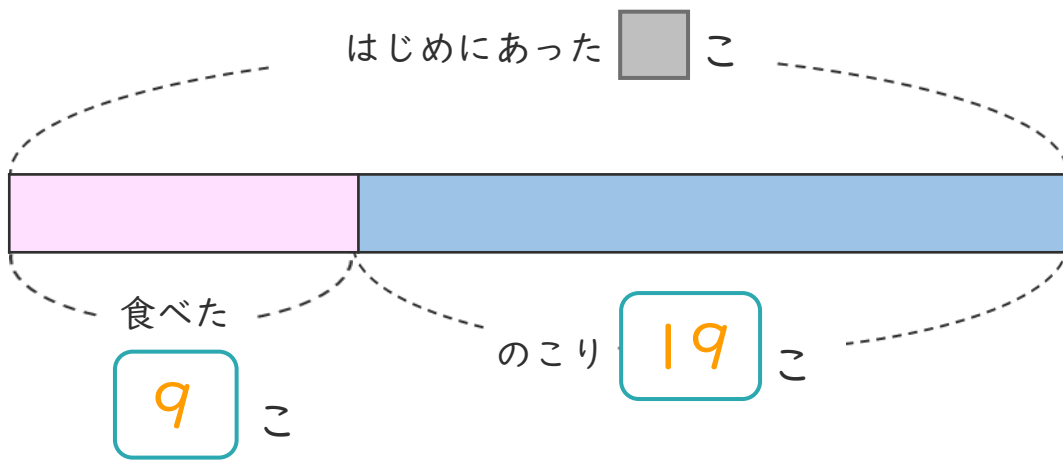


名まえ \_\_\_\_\_

・ あめが何こか ありました。

みんなで9こ 食べたので、のこりが19こになりました。

① 下の図の □ にあう 数を書きましょう。(各25点)



② あめは、はじめに何こ ありましたか。

しきと 答えを書きましょう。(各25点)

しき  $\left( 9 + 19 = 28 \right)$

答え  $\left( 28 \text{こ} \right)$

<筆算スペース>

