



図を使って
考えよう 2

● はじめにあった数は何こ？

15

めざせ100点!

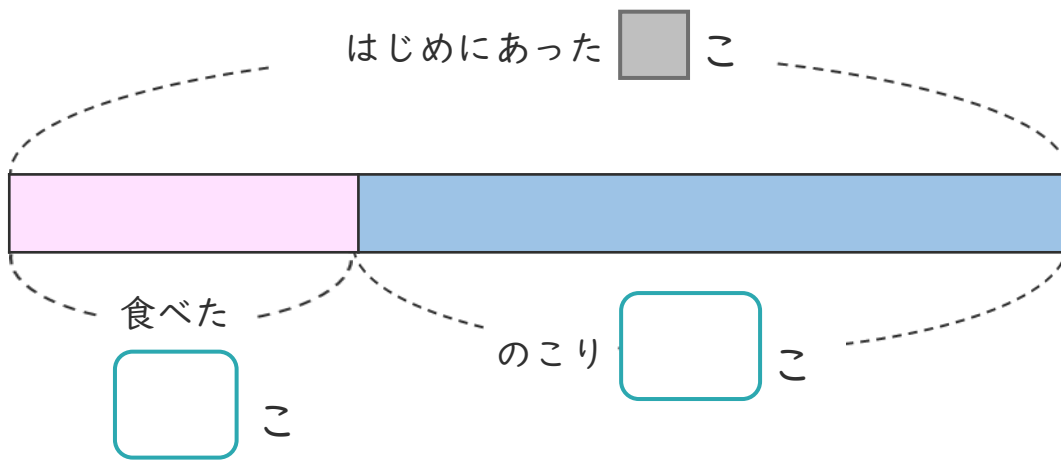


名まえ _____

・ あめが何こか ありました。

みんなで9こ 食べたので、のこりが19こになりました。

① 下の図の □ にあう 数を書きましょう。(各25点)



② あめは、はじめに何こ ありましたか。

しきと 答えを書きましょう。(各25点)

しき ()

答え ()

<筆算スペース>






図を使って
考えよう 2

● はじめにあった数は何こ？

15

めざせ100点!

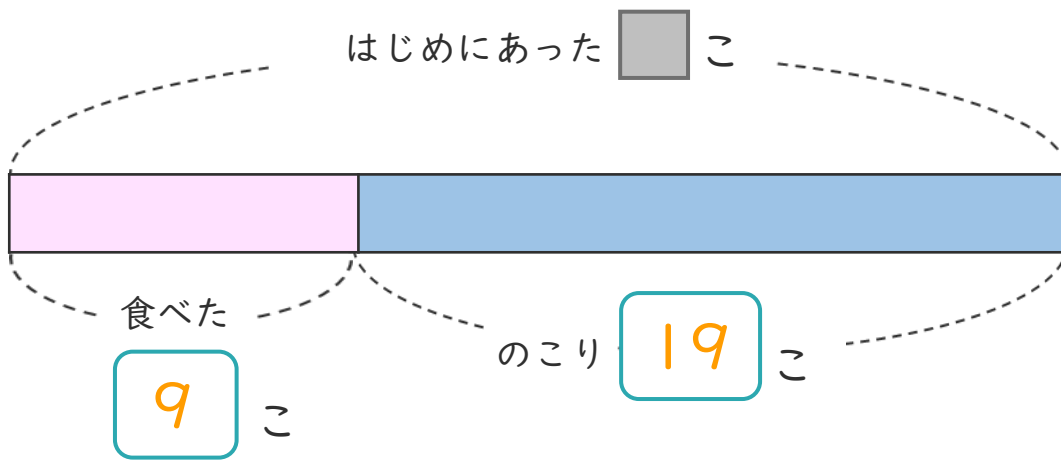


名まえ _____

・ あめが何こか ありました。

みんなで9こ 食べたので、のこりが19こになりました。

① 下の図の □ にあう 数を書きましょう。(各25点)



② あめは、はじめに何こ ありましたか。

しきと 答えを書きましょう。(各25点)

しき $\left(9 + 19 = 28 \right)$

答え $\left(28 \text{こ} \right)$

<筆算スペース>

