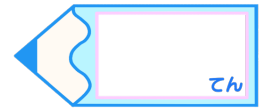


分数6

● もとの大きさはいくつ分？

15



目指せ75点!



名まえ

1 もとの長さの $\frac{1}{2}$ をいくつあつめると、もとの長さになりますか。



(25点)



答え：

2 もとの長さの $\frac{1}{6}$ をいくつあつめると、もとの長さになりますか。

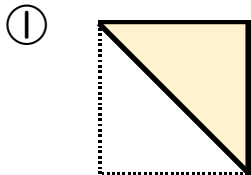
(25点)



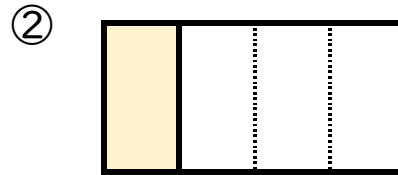
答え：

3 色をぬったぶぶんはもとの大きさの何分の一ですか。


(各25点)



答え：



答え：

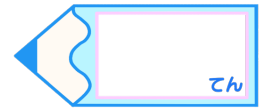


分数6

● もとの大きさはいくつ分？

15



目指せ75点!



名まえ

1 もとの長さの $\frac{1}{2}$ をいくつあつめると、もとの長さになりますか。


(25点)



答え： 2つ

2 もとの長さの $\frac{1}{6}$ をいくつあつめると、もとの長さになりますか。

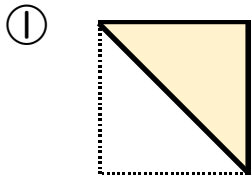
(25点)



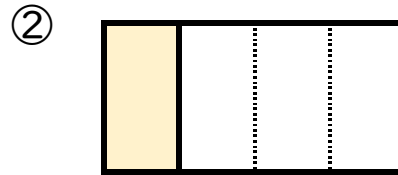
答え： 6つ

3 色をぬったぶぶんはもとの大きさの何分の一ですか。

(各25点)



答え： $\frac{1}{2}$



答え： $\frac{1}{4}$