



長さのたんい 7

● ものさしではかる (mm)

15

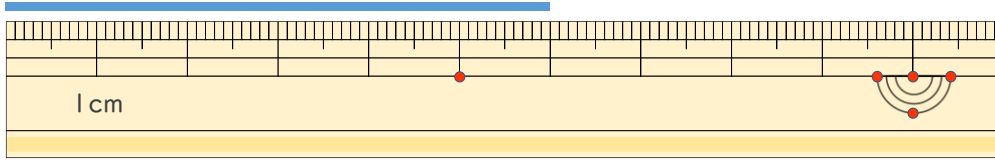
めざせ80点!



名まえ _____

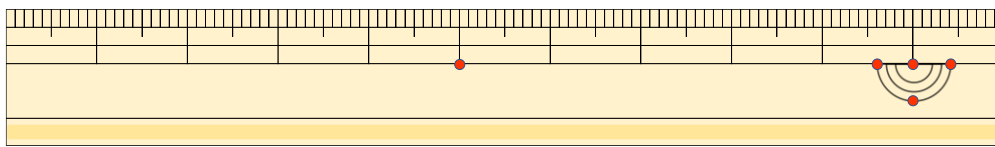
1 ^{せん}線の ^{なが}長さは ^{かく}どれだけですか。 (^{てん}各20点)

①



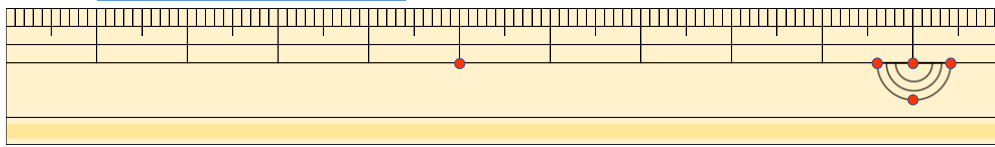
答え ()

②



^{こた}答え ()

③



^{こた}答え ()

2 ^{せん}線の ^{なが}長さを ^{かく}ものさしで ^{てん}はかりましょう。 (各20点)

①



^{こた}答え ()

②



^{こた}答え ()



長さのたんい 7

● ものさしではかる (mm)

15

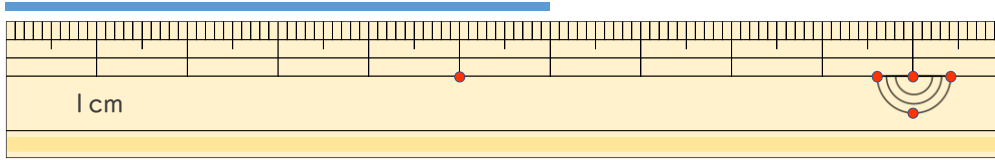
めざせ80点!



名まえ _____

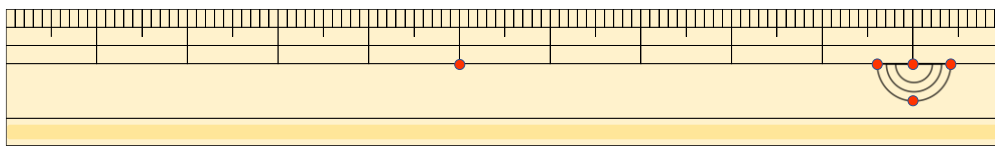
1 ^{せん} ^{なが} 線の長さは ^{かく} ^{てん} どれだけですか。(各20点)

①



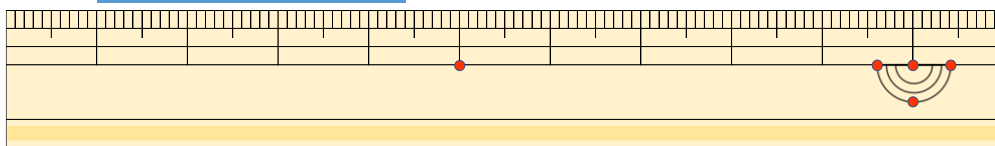
答え (6 cm)

②



^{こた} 答え (3 cm)

③



^{こた} 答え (3 cm 4 mm)

2 ^{せん} ^{なが} 線の長さを ^{かく} ^{てん} ものさしではかりましょう。(各20点)

①



^{こた} 答え (7 cm)

②



^{こた} 答え (4 cm)

