



長さのたんい 7

● ものさしではかる (mm)

15

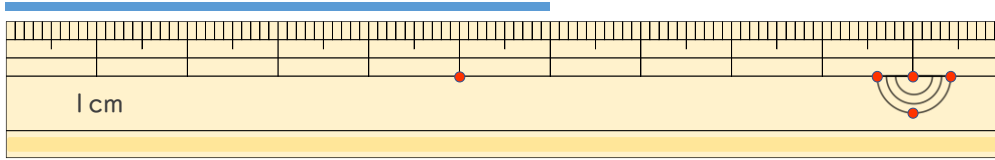
めざせ80点!



名まえ _____

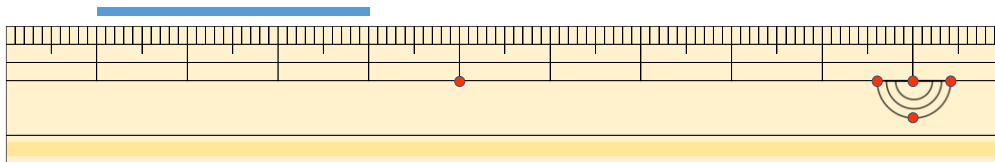
1 線の ^{せん}長さ ^{なが}は ^{かく}どれ ^{てん}だけですか。(各20点)

①



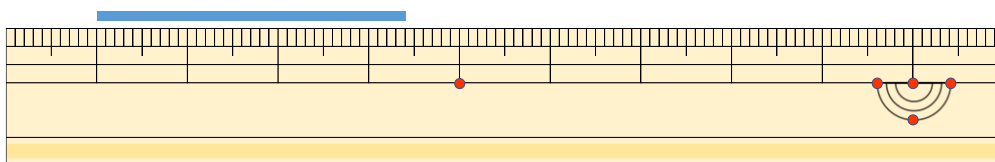
こた 答え ()

②



こた 答え ()

③



こた 答え ()

2 線の ^{せん}長さ ^{なが}を ^{かく}もの ^{てん}さしではかりましよう。(各20点)

①



こた 答え ()

②



こた 答え ()



長さのたんい 7

● ものさしではかる (mm)

15

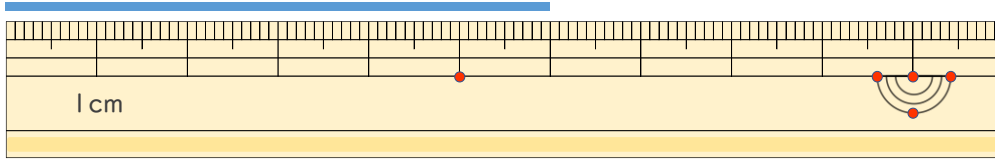
めざせ80点!



名まえ _____

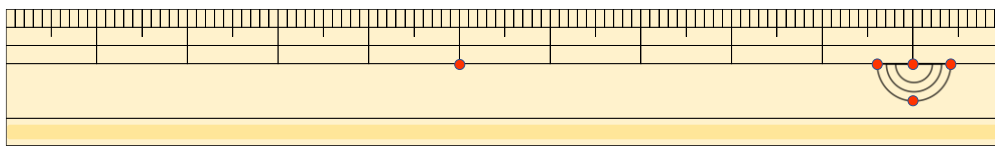
1 ^{せん}線の ^{なが}長さは ^{かく}どれだけですか。 (^{てん}各20点)

①



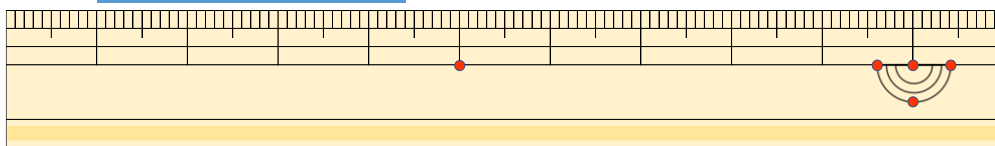
こた 答え (6 cm)

②



こた 答え (3 cm)

③



こた 答え (3 cm 4 mm)

2 ^{せん}線の ^{なが}長さを ^{かく}ものさしで ^{てん}はかりましょう。 (各20点)

①



こた 答え (7 cm)

②



こた 答え (4 cm)

