



# 長さのたんい 3

● ものさしの見かた (cm)

15

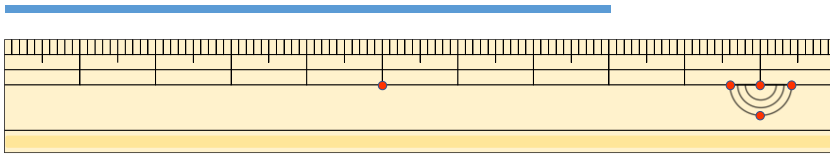
めざせ80点!



名まえ \_\_\_\_\_

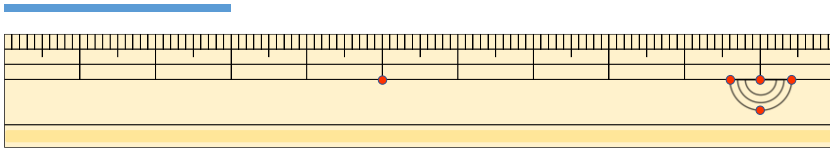
1 線の長さは何cmでしょう。(各20点)

①



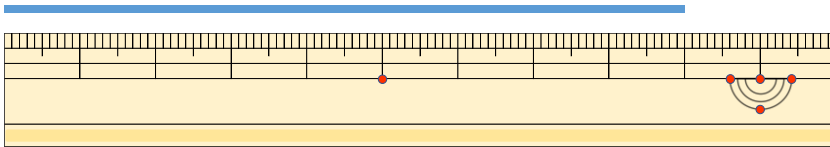
答え ( )

②



答え ( )

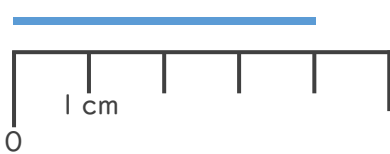
③



答え ( )

2 線の長さは何cmでしょう。(各20点)

①



答え ( )

②



答え ( )





# 長さのたんい 3

● 物のさしの見かた (cm)

15

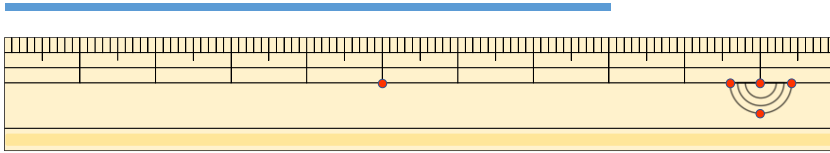
めざせ80点!



名まえ \_\_\_\_\_

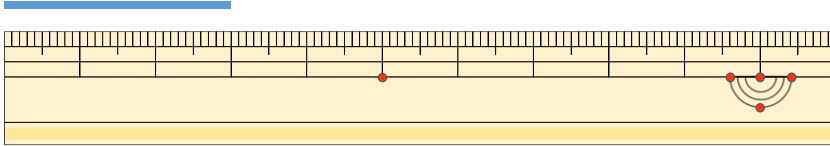
1 線の長さは何cmでしょう。(各20点)

①



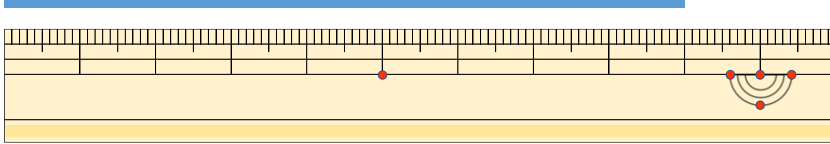
こた 答え ( 8 cm )

②



こた 答え ( 3 cm )

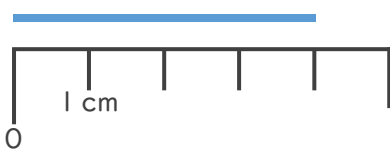
③



こた 答え ( 9 cm )

2 線の長さは何cmでしょう。(各20点)

①



こた 答え ( 4 cm )

②



こた 答え ( 6 cm )

