



長さのたんい 6

● ものさしの見かた (mm)

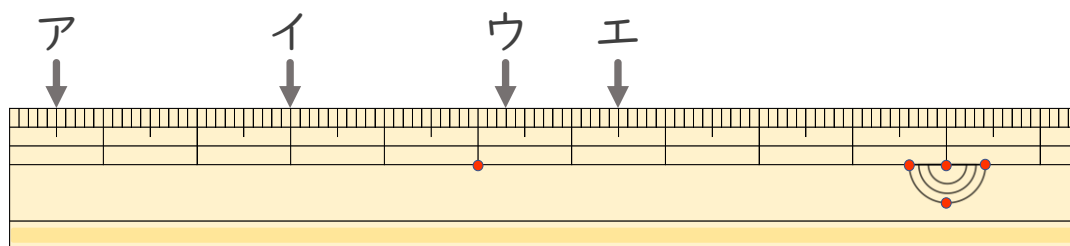
15

めざせ85点!



名まえ _____

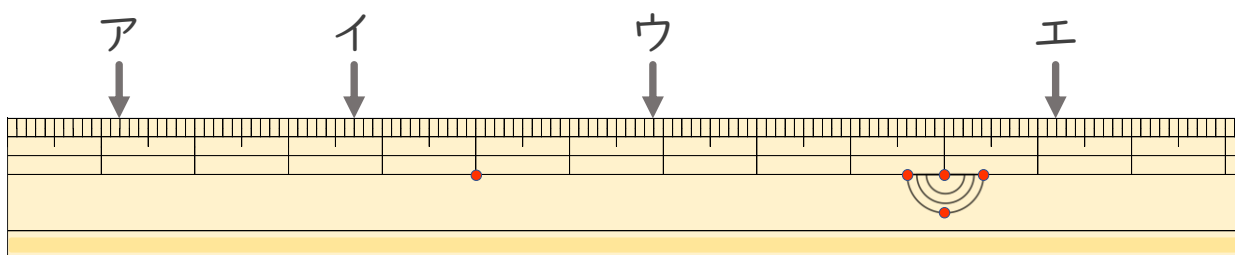
1 ひだり 左はしから ア、イ、ウ、までの なが 長さはそれぞれどれだけで
すか。 (かく てん 各10点)



ア () イ ()

ウ () エ ()

2 ひだり 左はしから ア、イ、ウ、エまでの なが 長さはそれぞれどれだけで
すか。 (かく てん 各15点)



ア () イ ()

ウ () エ ()



長さのたんい 6

● 物のさしの見かた (mm)

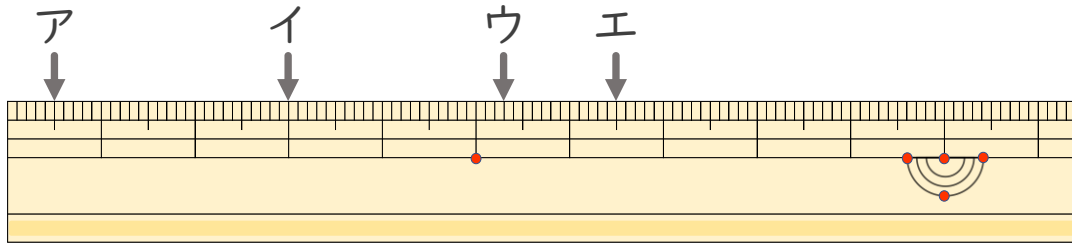
15

めざせ85点!



名まえ _____

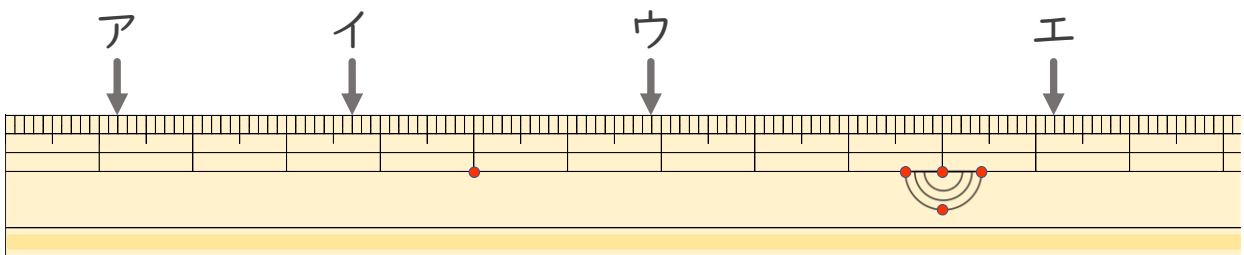
1 ^{ひだり}左はしからア、イ、ウ、^{なが}までの長さはそれぞれどれだけで
すか。(各10点)



ア (5 mm) イ (3 cm)

ウ (5 cm 3 mm) エ (6 cm 5 mm)

2 ^{ひだり}左はしからア、イ、ウ、エ^{なが}までの長さはそれぞれどれだけで
ですか。(各15点)



ア (1 cm 2 mm) イ (3 cm 7 mm)

ウ (6 cm 9 mm) エ (11 cm 2 mm)