



長さのたんい 2

● センチメートル

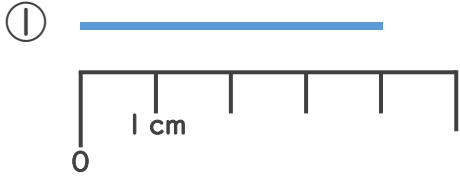
15

めざせ75点!

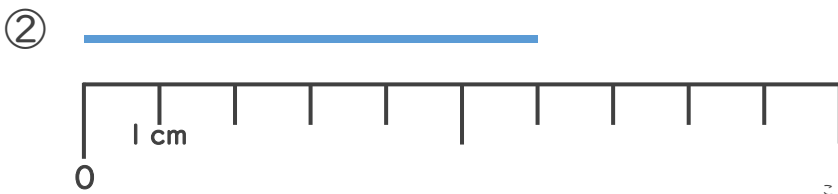


名まえ _____

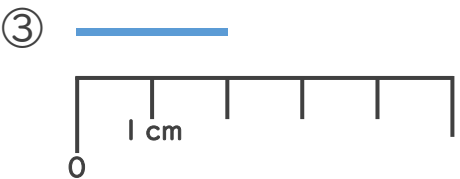
1 線の長さは何cmでしょう。(各25点)



答え ()



答え ()



答え ()

2 どちらのリボンが長いでしょう。(25点)



りかさん



みきさん



() さんのリボンの方が長い





長さのたんい 2

● センチメートル

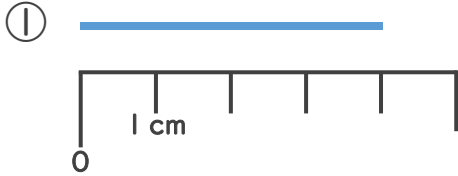
15

めざせ75点!

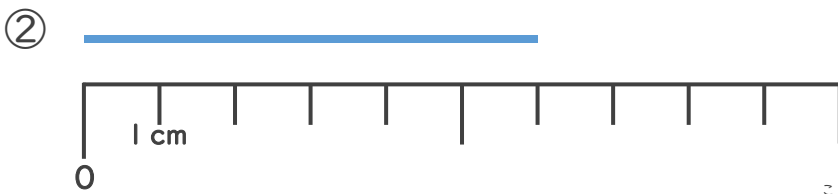


名まえ _____

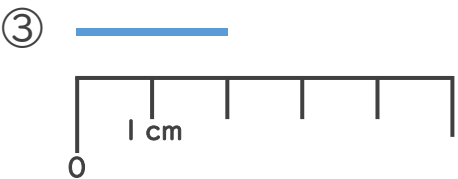
1 線の長さは何cmでしょう。(各25点)



答え (4 cm)



答え (6 cm)



答え (2 cm)

2 どちらのリボンが長いでしょう。(25点)



りかさん



みきさん



(みき) さんのリボンの方が長い

