



長さのたんい 5

● ミリメートル

15

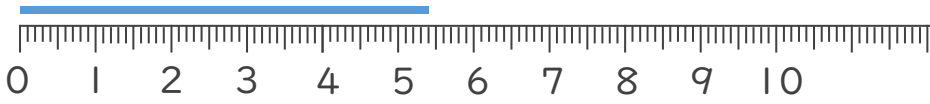
めざせ80点!



名まえ _____

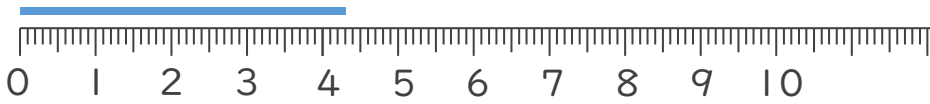
1 線の長さは何cm何mmでしょう。(各20点)

①



答え ()

②



答え ()

③



答え ()

2 線の長さをものさしではかりましょう。(各20点)

①



答え ()

②



答え ()






長さのたんい 5

● ミリメートル

15

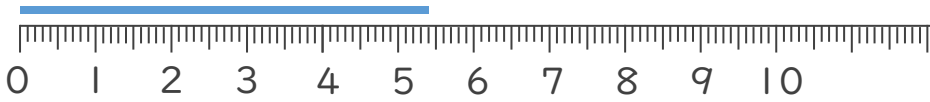
めざせ80点!



名まえ _____


1 線の長さは何cm何mmでしょう。(各20点)

①



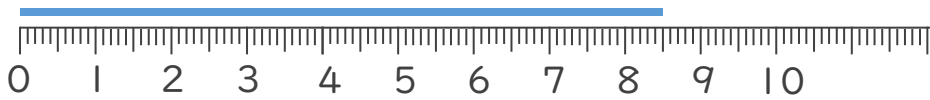
こた 答え (5 cm 4 mm)

②



こた 答え (4 cm 3 mm)

③



こた 答え (8 cm 5 mm)

2 線の長さをものさしではかりましょう。(各20点)

①



こた 答え (7 cm)

②



こた 答え (4 cm)

