



水のかさ4

リットルとデシリットル

15

目指せ90点!

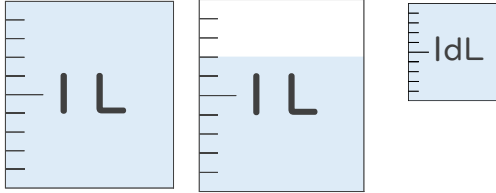


名まえ

1 水のかさはどれだけですか。

それぞれのたんいであらわしましょう。(各20点)

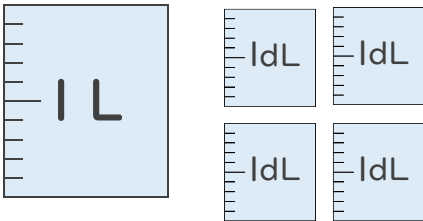
①



(L dL)

(dL)

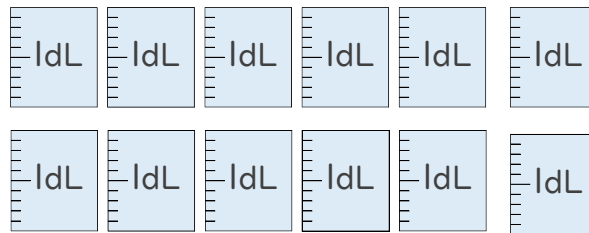
②



(L dL)

(dL)

2 つぎのペットボトルに入る水のかさをしらべましょう。(各10点)



① ペットボトルに入る水のかさは、何dLですか。

答え：

② ペットボトルに入る水のかさは、何L何dLですか。

答え：





水のかさ4

リットルとデシリットル

15

目指せ90点!

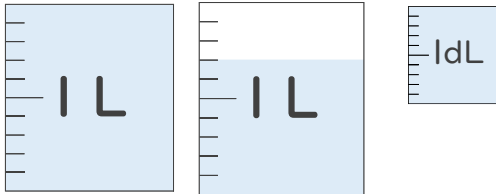


名まえ

1 水のかさはどれだけですか。

それぞれのたんいであらわしましょう。(各20点)

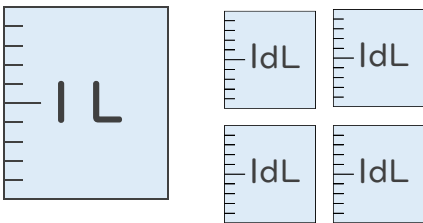
①



(1 L 8 dL)

(18 dL)

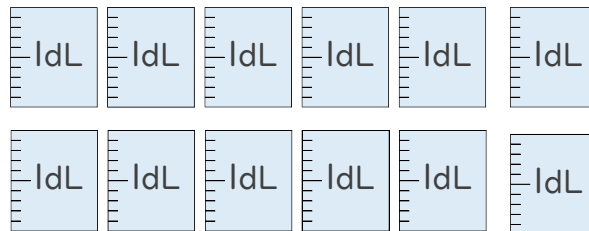
②



(1 L 4 dL)

(14 dL)

2 つぎのペットボトルに入る水のかさをしらべましょう。(各10点)



① ペットボトルに入る水のかさは、何dLですか。

答え： 12dL

② ペットボトルに入る水のかさは、何L何dLですか。

答え： 1L2dL

