




かけ算 12

15



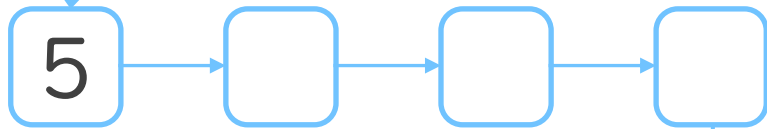
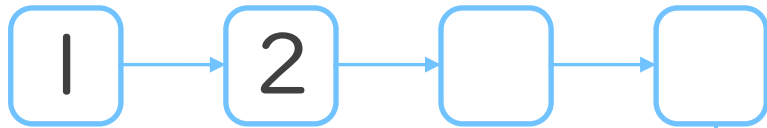
一のだんの九九

日にち： 月 日

名まえ _____



1. つぎの にあてはまる数を書こう。
(ぜんぶせいかいで50点)



2. つぎの計算をしましょう。
(1もん10点ずつ)

① $1 \times 3 =$

② $1 \times 8 =$

③ $1 \times 4 =$

④ $1 \times 7 =$

⑤ $1 \times 2 =$





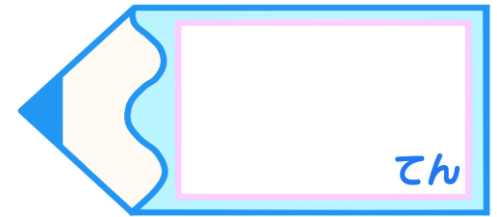
かけ算 12

15


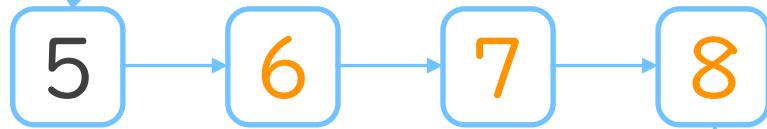
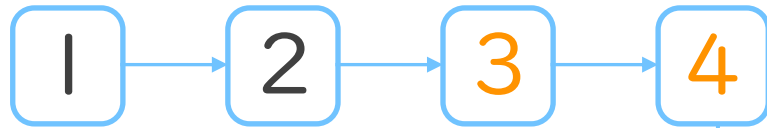
● 一のだんの九九

日にち： 月 日

名まえ _____



1. つぎの にあてはまる数を書こう。
(ぜんぶせいはいで50点)



2. つぎの計算をしましょう。
(1もん10点ずつ)

① $1 \times 3 = 3$

② $1 \times 8 = 8$

③ $1 \times 4 = 4$

④ $1 \times 7 = 7$

⑤ $1 \times 2 = 2$

