




分数7

何倍？何分の一？

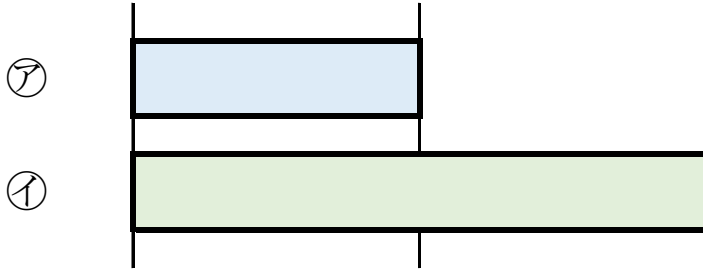
15

目指せ90点!



名まえ _____

1 つぎの図を見てもんだいに答えましょう。(各30点)



① 下の①のテープの長さは、⑦のテープの長さの何ばいですか。

答え： _____

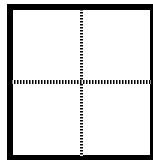
② 上の⑦のテープの長さは、①のテープの長さの何分の一ですか。

答え： _____

2 つぎの大きさに色をぬりましょう。(各10点)


①

$\frac{1}{4}$




③

$\frac{1}{3}$



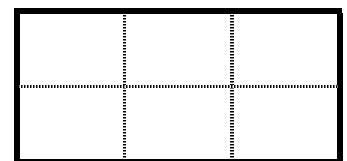
②

$\frac{1}{4}$



④

$\frac{1}{6}$






分数7

何倍？何分の一？

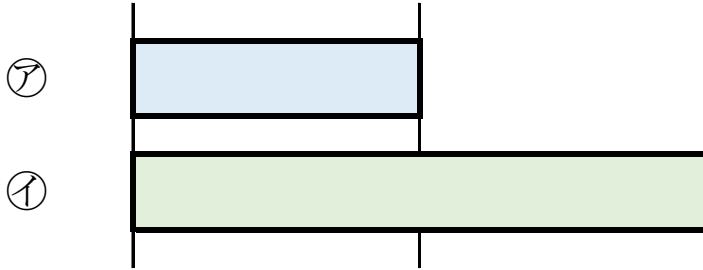
15

目指せ90点!



名まえ _____

1 つぎの図を見てもんだいに答えましょう。(各30点)



① 下の①のテープの長さは、⑦のテープの長さの何ばいですか。

答え： 2 ばい

② 上の⑦のテープの長さは、①のテープの長さの何分の一ですか。

答え： $\frac{1}{2}$

2 つぎの大きさに色をぬりましょう。(各10点)

