



分数5

● 同じ長さに分けた
テープの1つ分の長さ

15

目指せ80点!



名まえ

1 同じ長さになるように、テープを5つに分けました。

分けた1つ分の長さは、もとの長さの何分の一ですか。(20点)

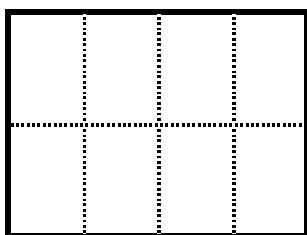
もとの長さ



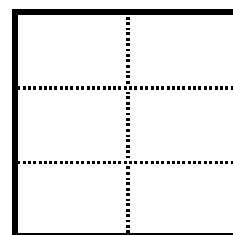
答え：

2 つぎの大きさに色をぬりましょう。(各20点)


① $\frac{1}{8}$




③ $\frac{1}{6}$




② $\frac{1}{2}$



④ $\frac{1}{3}$



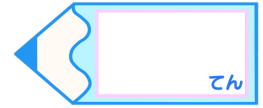


分数5

● 同じ長さに分けた
テープの1つ分の長さ

15


目指せ80点!



名まえ

- 1 同じ長さになるように、テープを5つに分けました。
分けた1つ分の長さは、もとの長さの何分の一ですか。(20点)

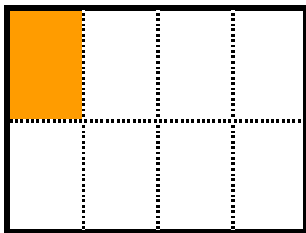
もとの長さ



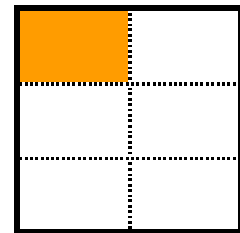
答え： $\frac{1}{5}$

- 2 つぎの大きさに色をぬりましょう。(各20点)


① $\frac{1}{8}$



③ $\frac{1}{6}$



② $\frac{1}{2}$



④ $\frac{1}{3}$

