



図を使って  
考えよう 3

15

● 帰った人は何人？

めざせ100点!

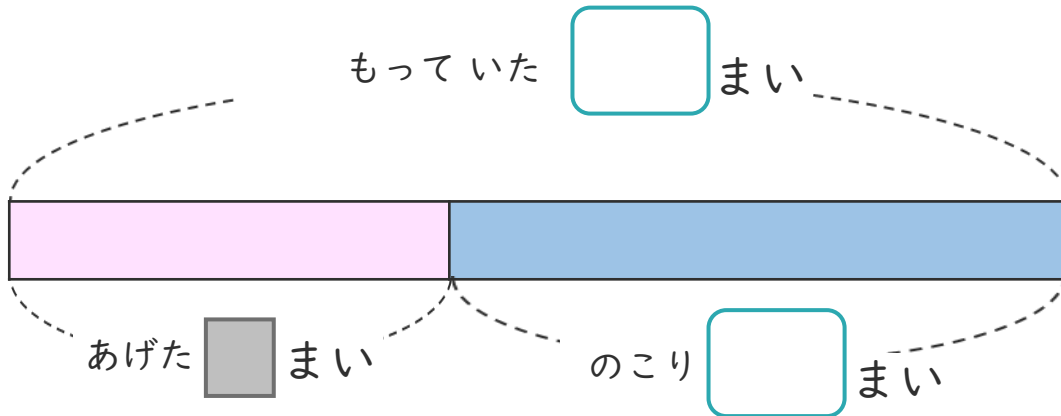


名まえ \_\_\_\_\_

・ シールを 44まい もっていました。

友だちに 何まいか あげたので、のこりは 27まいになりました。

① 下の図の □ にあう 数を書きましょう。(各25点)




② 友だちには、何まい あげましたか。

しきと 答えを書きましょう。(各25点)

しき ( )

答え ( )

<筆算スペース>





図を使って  
考えよう 3

15

● 帰った人は何人？

めざせ100点!

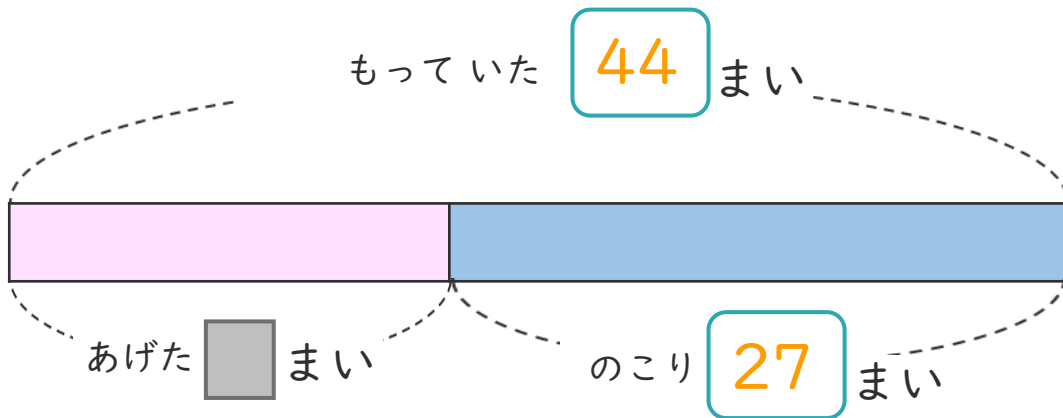


名まえ \_\_\_\_\_

・ シールを 44まい もっていました。

友だちに 何まいか あげたので、のこりは 27まいになりました。

① 下の図の □ にあう 数を書きましょう。(各25点)



② 友だちには、何まい あげましたか。

しきと 答えを書きましょう。(各25点)

しき  $\left( 44 - 27 = 17 \right)$

答え  $\left( 17 \text{まい} \right)$

<筆算スペース>

