



# 長方形と正方形 6

# 15

◎ 正方形を見つけよう

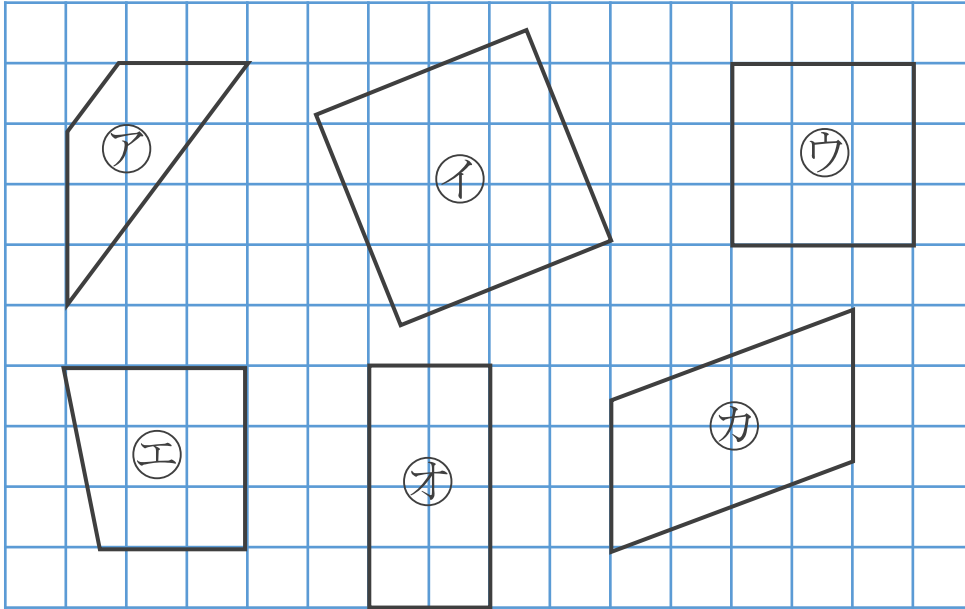
めざせ100点!



名まえ \_\_\_\_\_

1 正方形はどれですか。

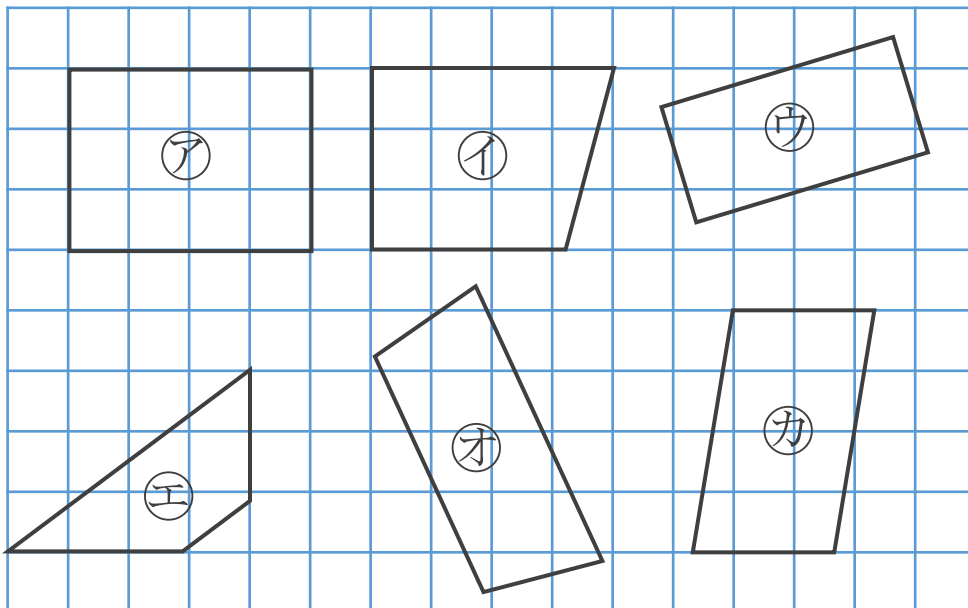
三角じょうぎをつかって、ぜんぶ見つけましょう。(60点)



答え： \_\_\_\_\_

2 長方形はどれですか。

三角じょうぎをつかって、ぜんぶ見つけましょう。(40点)



答え： \_\_\_\_\_



# 長方形と正方形 6

15

◎ 正方形を見つけよう

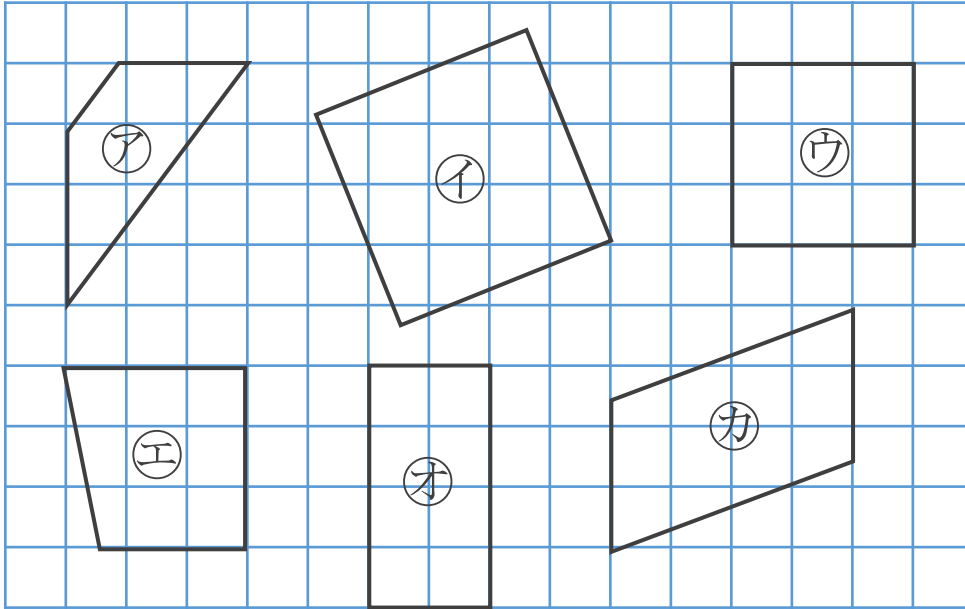
めざせ100点!



名まえ \_\_\_\_\_

1 正方形はどれですか。

三角じょうぎをつかって、ぜんぶ見つけましょう。(60点)

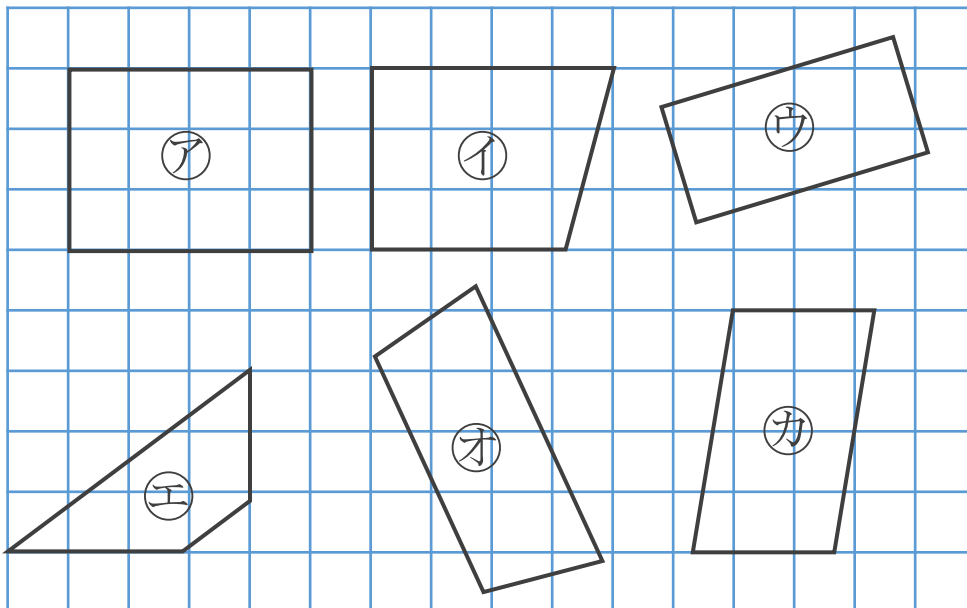


答え：

イ, ウ

2 長方形はどれですか。

三角じょうぎをつかって、ぜんぶ見つけましょう。(40点)



答え：

ア, ウ

