



# 3けたの数 5

◎ 百や十や一を  
集めてつくる数



目指せ90点!



名まえ \_\_\_\_\_

1 □ にあう数を書きましょう。(各20点)

① 465は、100を □ こ、10を □ こ、1を □ こあわせた数です。


② 710は、100を □ こ、10を □ こあわせた数です。

③ 百のくらいの数字が2、十のくらいの数字が0、  
一のくらいの数字が9の数は □ です。

④ 100を8こ、1を3こあわせた数は □ です。

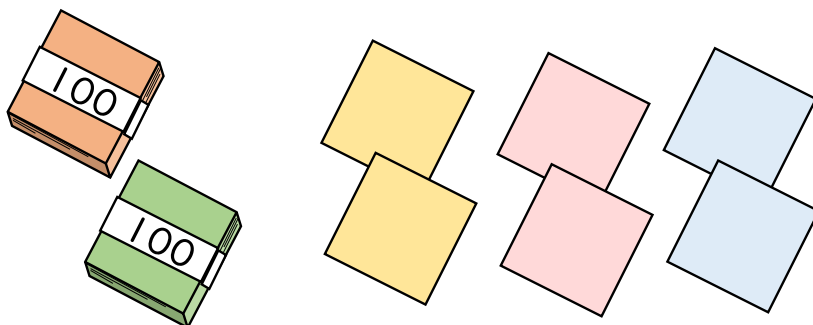
2 ぼうや色紙の数を、数字で書きましょう。(各10点)

①



( 本 )

②



( まい )



### 3けたの数 5

◎ 百や十や一を  
集めてつくる数



目指せ90点!



名まえ \_\_\_\_\_

1 □ にあう数を書きましょう。(各20点)

① 465は、100を **4** こ、10を **6** こ、1を **5** こあわせた数です。


② 710は、100を **7** こ、10を **1** こあわせた数です。

③ 百のくらいの数字が2、十のくらいの数字が0、  
一のくらいの数字が9の数は **209** です。

④ 100を8こ、1を3こあわせた数は **803** です。

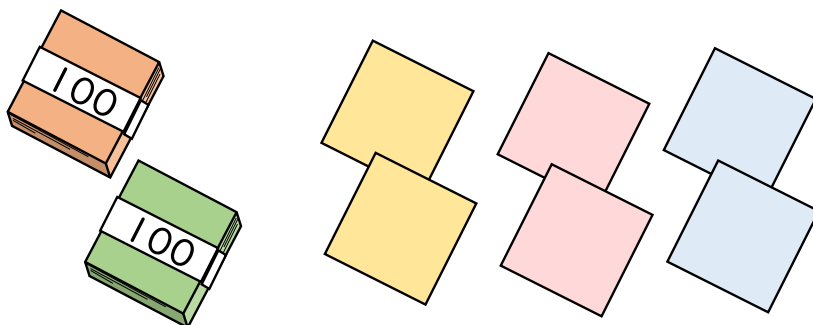
2 ぼうや色紙の数を、数字で書きましょう。(各10点)

①



( **352** 本 )

②



( **206** まい )