




長さのたんい 8

◎ 直線の長さをはかる (mm)

15

めざせ80点!



名まえ _____

1 線の長さをものさしではかりましょう。(各20点)

①



答え ()

②



答え ()

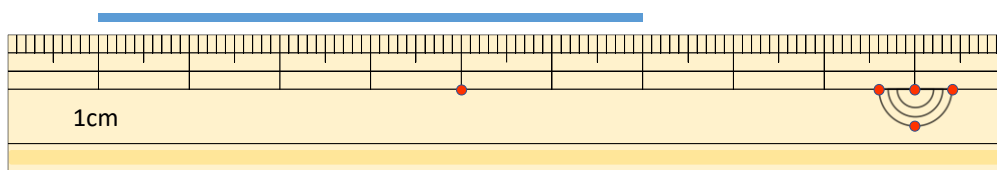
③



答え ()

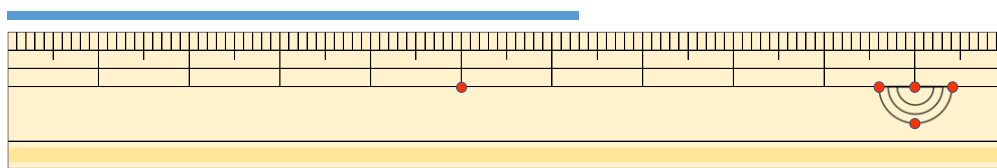
2 線の長さはどれだけですか。(各20点)

①



答え ()

②



答え ()






長さのたんい 8

◎ 直線の長さをはかる (mm)

15

めざせ80点!



名まえ _____

1 線の長さをものさしではかりましょう。(各20点)

①



答え (5 cm 5 mm)

②



答え (3 cm)

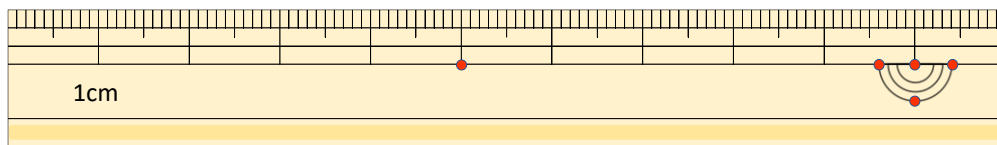
③



答え (5 cm 7 mm)

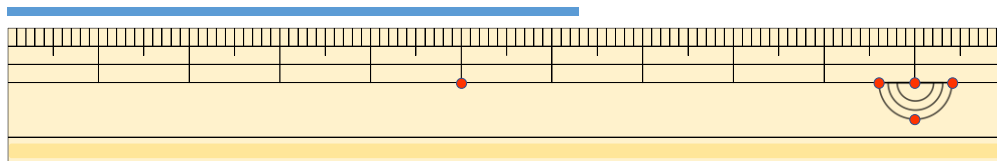
2 線の長さはどれだけですか。(各20点)

①



答え (6 cm)

②



答え (6 cm 3 mm)

