



# かけ算 2


絵を見てかけ算のしきを作ろう



日にち： 月 日


めざせ100点!

名まえ \_\_\_\_\_



絵を見て、かけ算のしきをつかって、ぜんぶでいくつか答えましょう。(各50点)

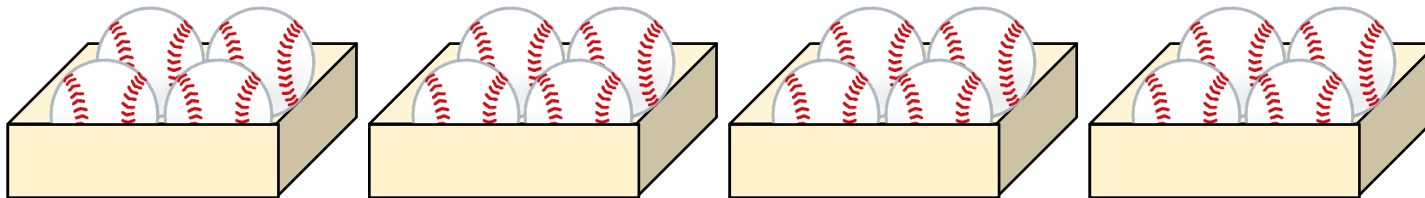
①



しき：

答え： \_\_\_\_\_

②



しき：

答え： \_\_\_\_\_





## かけ算 2


絵を見てかけ算の  
しきを作ろう



日にち：          月          日

名まえ \_\_\_\_\_

めざせ100点!



・絵を見て、かけ算のしきをつかって、ぜんぶでいくつか答えましょう。(各50点)

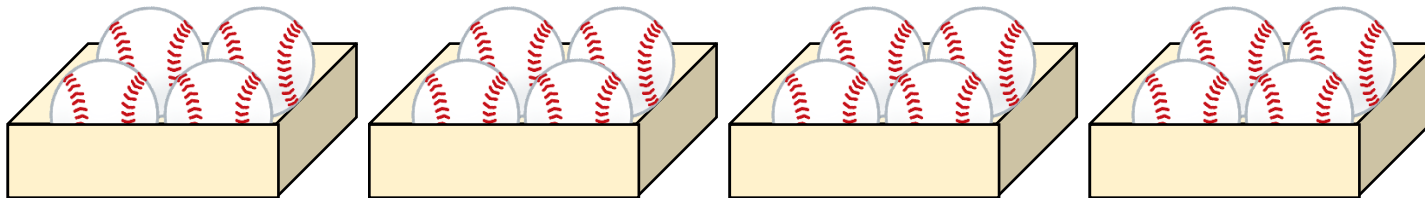
①



しき： $3 \times 6 = 18$

答え：18こ

②



しき： $4 \times 4 = 16$

答え：16こ

