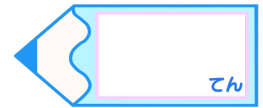


分数 2

色をぬった部分は何分の一？

15

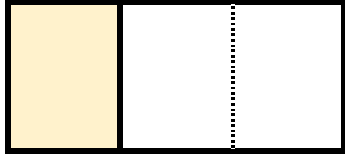
目指せ80点!



名まえ

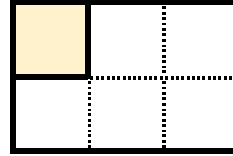
・色をぬったぶんはもとの大きさの何分の一ですか。(各20点)

①



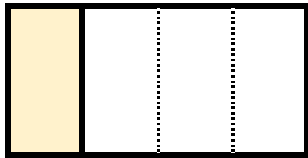
答え：

④




答え：

②




答え：

⑤




答え：

③



答え：

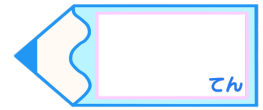


分数 2

色をぬった部分は何分の一？

15

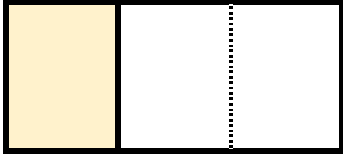
目指せ80点!



名まえ

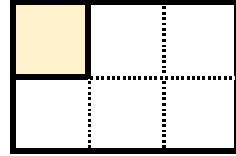
・色をぬったぶんはもとの大きさの何分の一ですか。(各20点)

①



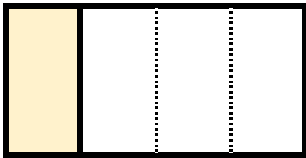
答え： $\frac{1}{3}$

④




答え： $\frac{1}{6}$

②




答え： $\frac{1}{4}$

⑤



答え： $\frac{1}{2}$

③



答え： $\frac{1}{2}$