




図を使って
考えよう！

15

● 買った数は何こ？

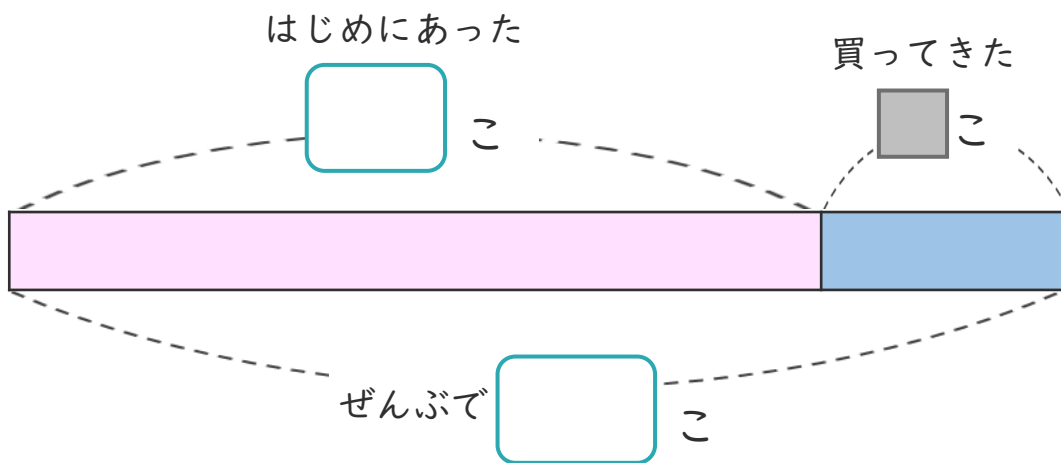
めざせ100点!



名まえ

- ゼリーが18こあります。
- どこか買ったので、ぜんぶで24こになりました。

① 下の図の にあう数を書きましょう。(各25点)



② 買ったゼリーは何こですか。

しきと答えを書きましょう。(各25点)

しき (\quad)

答え (\quad)

<筆算スペース>



図を使って
考えよう！

● 買った数は何こ？

15

めざせ100点!

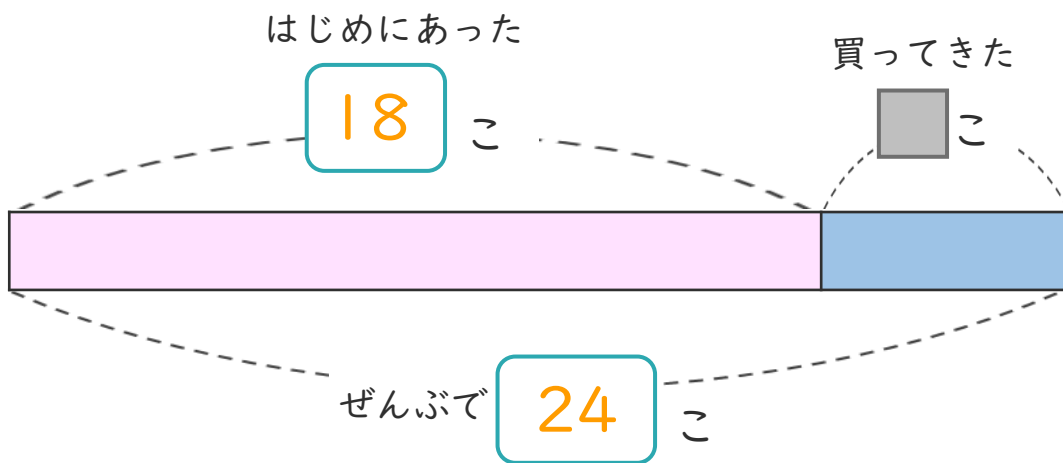


名まえ

・ゼリーが18こあります。

どこか買ってきたので、ぜんぶで24こになりました。

① 下の図の□にあう数を書きましょう。(各25点)



② 買ってきたゼリーは何こですか。

しきと答えを書きましょう。(各25点)

しき $\left(24 - 18 = 6 \right)$

答え $\left(6こ \right)$

<筆算スペース>

