




長方形と正方形 8

● 長方形や直角三角形をかいてみよう

15

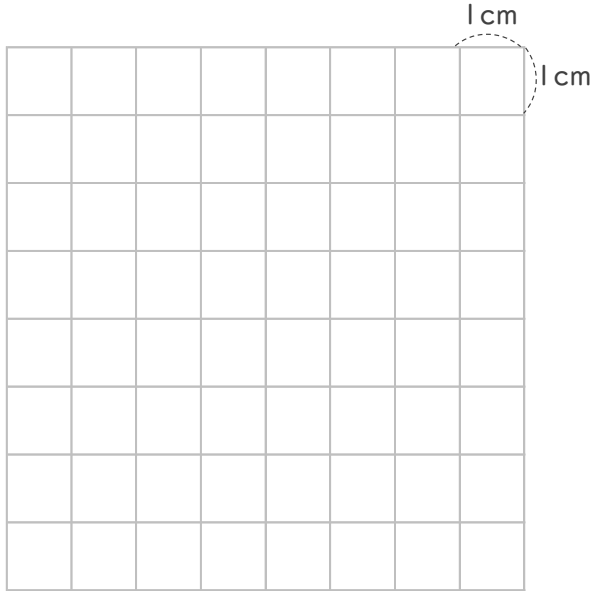
めざせ100点!



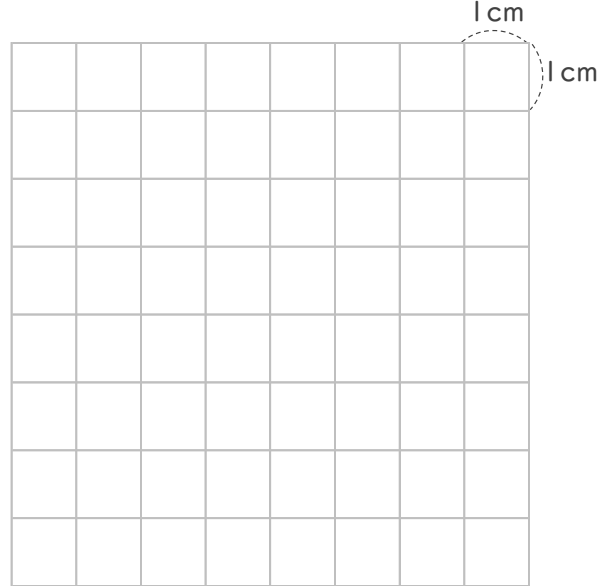
名まえ

1 つぎの形を書きましょう。(各25点)

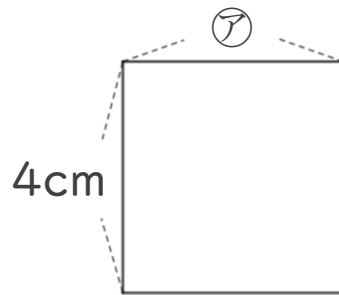
① 1つのへんの長さが5 cmの正方形。



② 3 cmのへんと7 cmのへんの間に直角のかどがある直角三角形。



2 つぎの形は正方形です。つぎのもんだいに答えましょう。(各25点)



① ②のへんの長さは、何cmですか。

答え：

② この正方形のまわりの長さは何cmですか。

しき：

答え：




長方形と正方形 8

● 長方形や直角三角形をかいてみよう

15

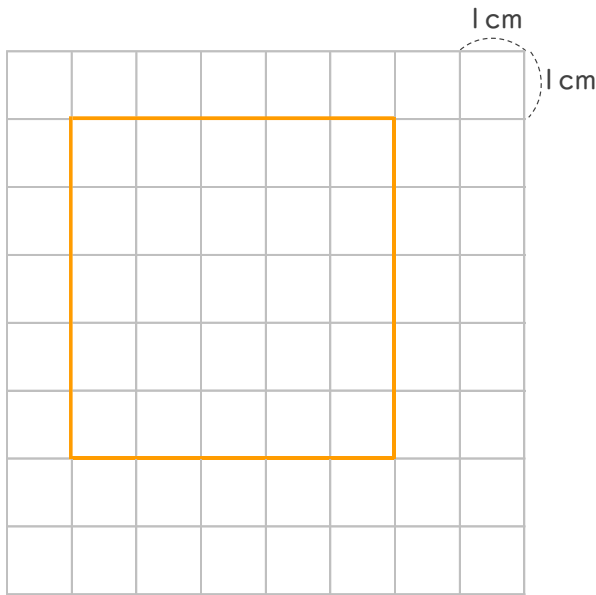
めざせ100点!



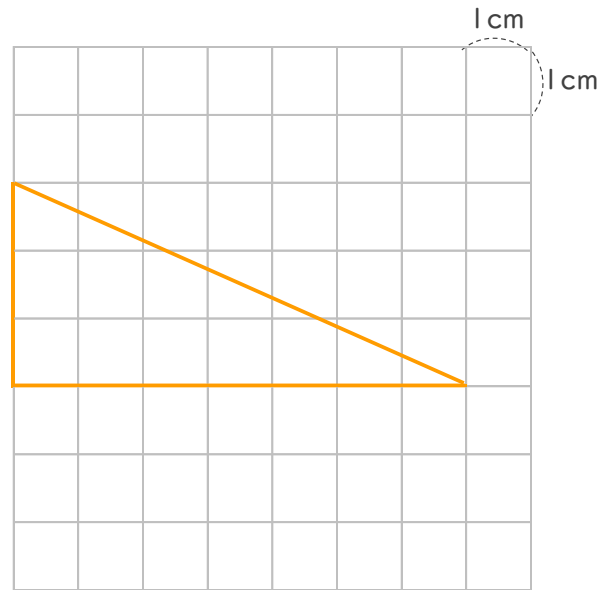
名まえ _____

1 つぎの形を書きましょう。(各25点)

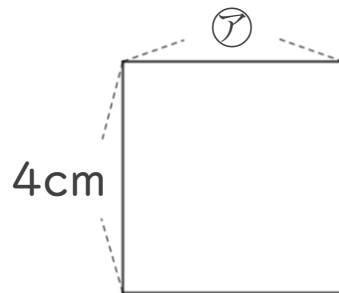
① 1つのへんの長さが5cmの正方形。



② 3cmのへんと7cmのへんの間に直角のかどがある直角三角形。



2 つぎの形は正方形です。つぎのもんだいに答えましょう。(各25点)



① アのへんの長さは、何cmですか。

答え： 4cm

② この正方形のまわりの長さは何cmですか。

$$\text{しき: } 4 + 4 + 4 + 4 = 16$$

答え： 16cm