




かけ算 6

4のだんの九九


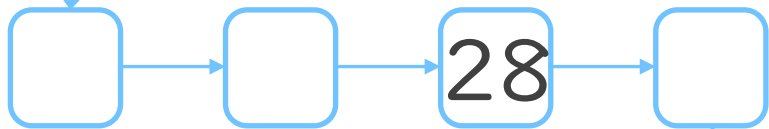
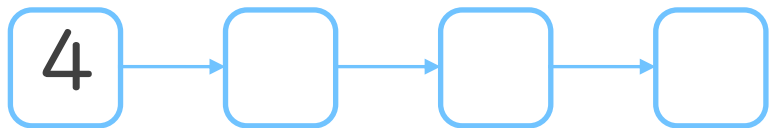


日にち： 月 日

名まえ _____



1. つぎの にあてはまる数を書こう。
(ぜんぶ せい かい で 50 点)



2. つぎの計算をしましょう。
(1もん 10点ずつ)

① $4 \times 8 =$

② $4 \times 2 =$

③ $4 \times 5 =$

④ $4 \times 6 =$

⑤ $4 \times 9 =$




かけ算 6

4のだんの九九

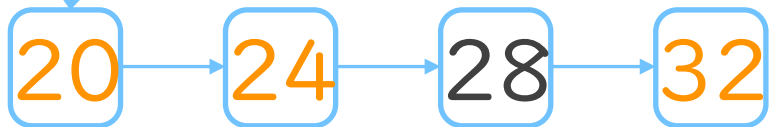
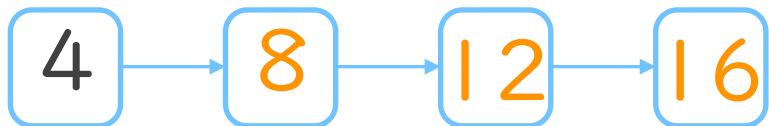


日にち： 月 日


名まえ _____



1. つぎの にあてはまる数を書こう。
(ぜんぶせいはいで50点)



36



2. つぎの計算をしましょう。
(1もん10点ずつ)

① $4 \times 8 = 32$

② $4 \times 2 = 8$

③ $4 \times 5 = 20$

④ $4 \times 6 = 24$

⑤ $4 \times 9 = 36$